

# 2018~2019 学年度第二学期期末校际联考

## 高二地理试题

### 注意事项:

1. 本试卷共 6 页,全卷满分 100 分,答题时间 90 分钟;
2. 答卷前,务必将答题卡上密封线内的各项目填写清楚;
3. 第 I 卷选择题必须使用 2B 铅笔填涂,第 II 卷非选择题必须使用 0.5 毫米黑色墨水签字笔书写,涂写要工整、清晰;
4. 考试结束,监考员将试题卷、答题卡一并收回。

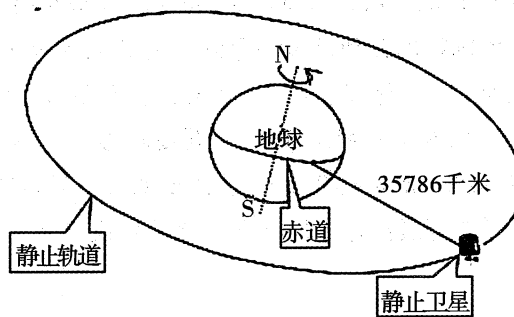
### 第 I 卷(选择题 共 44 分)

一、选择题:本大题共 22 小题,每小题 2 分,共 44 分。在每小题给出的四个选项中,只有一项是符合题目要求的。

据国家统计局发布,2018 年我国人口出生率为 10.94‰,全年出生人口 1523 万人。相比于 2017 年,全年出生人口(1723 万人)减少了 200 万,人口出生率是近几十年来最低。据此完成 1~2 题。

1. 人口出生率的变化将最先影响到劳动力的  
A. 年龄                      B. 职业                      C. 性别                      D. 数量
2. 为使“全面二孩”政策的潜力释放,逐步提高我国人口出生率,下列措施可行的是  
A. 提高育龄妇女文化水平                      B. 完善社会养老保障制度  
C. 强化政府生育服务职能                      D. 发展经济增加就业机会

2018 年 11 月 1 日,我国成功发射北斗三号系统首颗地球静止轨道卫星,该卫星将始终位于赤道某地的上空,相对于地球表面静止。读下图回答 3~4 题。



3. 关于该卫星的表述,正确的是  
A. 在太空中静止不动                      B. 不受太阳活动威胁  
C. 容易产生流星现象                      D. 属地月系的一部分
4. 北斗卫星导航系统可直接应用于  
A. 判定植物生长状况                      B. 监测地下油气资源  
C. 测量山峰海拔高度                      D. 跟踪台风中心位置

创意产业指的是将个人创意、才华和专业技术,通过运用知识产权,创造财富和增加就业机会的新兴行业。近年来,创意产业将废弃的旧厂房、建筑改造,并在城市旧城区集聚发展而形成了创意产业园,这种旧工业建筑与现代创意产业的结合,逐渐成为一种时尚。据此完成5~7题。

5. 创意产业在旧城区发展,有利于

- A. 促进产业升级      B. 降低城市房价      C. 提高城市等级      D. 加快城市化进程

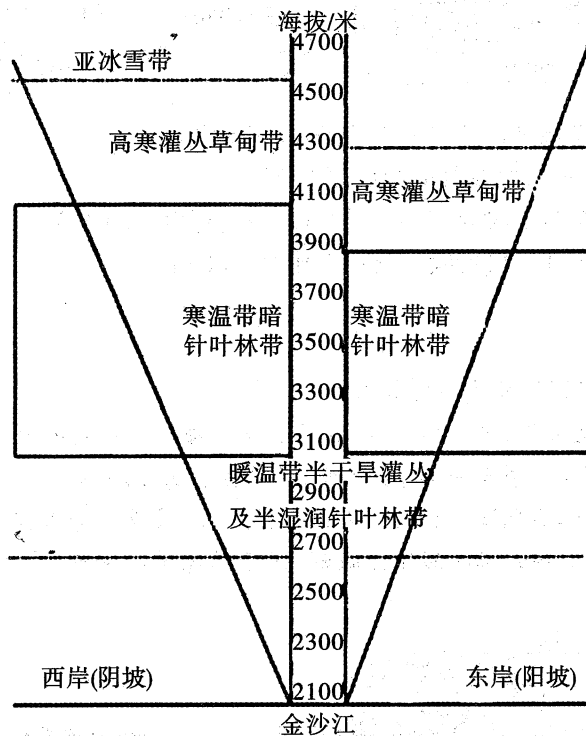
6. 创意产业集聚的目的是

- A. 接近劳动力      B. 靠近原料产地      C. 降低运输成本      D. 共用基础设施

7. 工厂旧址改造为创意产业园,应首先进行

- A. 环境美化      B. 交通改善      C. 厂房建设      D. 技术革新

垂直地带性植被的常见更替顺序是乔木—灌木—草甸。但在个别山区却存在植被呈逆向更替分布的情况,这种现象成为倒置的垂直地带性。下图为横断山区金沙江(28°N)两岸的植被垂直地带分布。读图完成8~9题。



8. 该地金沙江畔的自然植被可能是

- A. 中温带落叶阔叶林      B. 亚热带常绿阔叶林  
C. 亚热带干旱小叶灌丛      D. 高山草甸

9. 横断山区金沙江(28°N)两岸植被出现倒置垂直地带性分布的最主要原因是

- A. 海拔高,热量不足      B. 受地形影响,出现焚风效应  
C. 谷底河畔风力强劲,蒸发旺盛      D. 远离海洋,深居内陆,水汽难以到达


“下沉式窑洞”是指在平坦的地面上向下挖深6~7米、长宽12~15米的土坑做院子,然后在坑的四壁挖窑洞。在工业文明的冲击下逐渐被人们遗弃,受原生绿色建筑思想的影响,现又被人们重视和保护。读我国黄土高原“某下沉式窑洞景观图”(右下图)。完成10~11题。

10. 每户“下沉式窑洞”建造时最必不可少的设施是

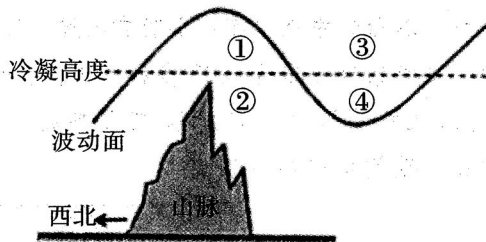
- A. 水井
- B. 池塘
- C. 石桌
- D. 木梯

11. 与工业文明所建造的钢筋混凝土式房屋相比，“下沉式窑洞”逐渐被遗弃。最可能是因为

- A. 成本高
- B. 面积小
- C. 通风差
- D. 通讯好



在一定条件下,气流越山时,在山脊背风坡上空形成的波动,称山地背风波。当风速较大且风向与山脊垂直时,有利于背风波形成。背风波形成时,常可出现波状云,波状云的出现往往表明大气比较稳定。某日当风向垂直于某东北—西南走向的山脉时形成了背风波(下图)。据此完成12~14题。



12. 该日当地风向可能是

- A. 东南
- B. 西北
- C. 西南
- D. 东北

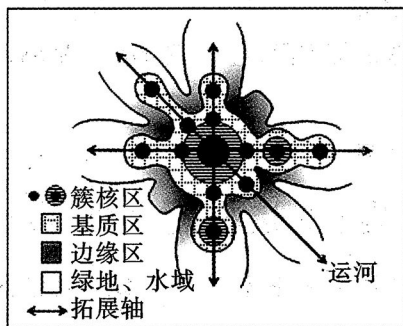
13. 图中形成波状云最多的是

- A. ①
- B. ②
- C. ③
- D. ④

14. 对该日当地天气描述正确的是

- A. 山脉东北侧阴雨,西南侧阴雨
- B. 山脉西北侧阴雨,东南侧晴朗
- C. 山脉东北侧阴雨,西南侧晴朗
- D. 山脉西北侧晴朗,东南侧晴朗

下图为我国某中型平原水网城市的空间形态模型图。该城市起源于运河,后沿多轴线向外拓展。据此完成15~17题。



15. 最符合该模型的城市是

- A. 拉萨
- B. 兰州
- C. 苏州
- D. 北京

16. 据此模型判断,居住用地应集中在

- A. 簇核区
- B. 基质区
- C. 边缘区
- D. 绿地、水域

17. 该城市沿各轴线拓展速度发生明显变化,可能是因为

- A. 地形阻挡      B. 河流改道      C. 交通方式改变      D. 环境污染集中

近年来,位于高纬的西伯利亚地区气候发生了明显变化,土地覆被也随之变化,平地上的耕地明显减少,洼地上的草地大量转化为湿地,越冬积雪(积雪期超过一年)面积减少。据此完成18~20题。

18. 导致西伯利亚地区土地覆被变化的首要原因是

- A. 气温升高      B. 气温降低      C. 降水增多      D. 降水减少

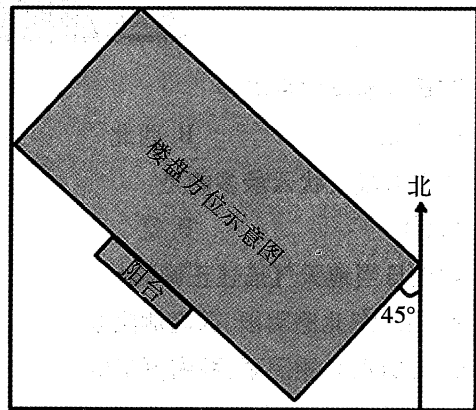
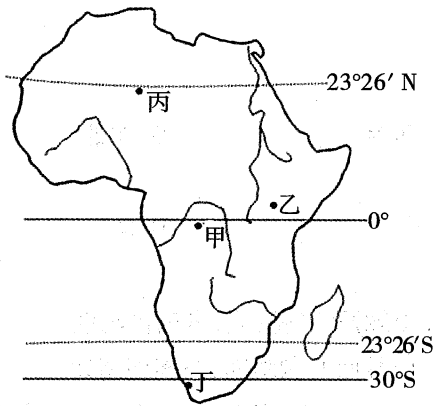
19. 湿地面积增加主要是因为当地

- A. 洪水暴涨      B. 退耕还湿      C. 地面沉降      D. 冻土融化

20. 西伯利亚地区平地上减少的耕地主要转化为

- A. 林地      B. 草地      C. 湿地      D. 寒漠

多肉植物指植物的根、茎、叶营养器官中至少有一个器官肥厚多汁、储存着大量水分,在土壤中水量减少时满足植物生存需要。非洲某地分布着1000多种当地特有的多肉植物,一年中一些时间植物在休眠,但只需短暂的雨季或几场大雾,就万物复苏、百花齐放。下图示意非洲简图和李老师家(105°02'E, 30°17'N)楼盘方位。据此完成21~22题。



21. 推测材料中的“非洲某地”最可能在图中

- A. 甲地      B. 乙地      C. 丙地      D. 丁地

22. 不考虑天气因素情况下,李老师家阳台上引种的多肉植物在2019年3月21日接受第一缕阳光时,墙上挂钟时间是

- A. 10点      B. 9点      C. 7点      D. 6点

## 第Ⅱ卷(非选择题 共56分)

二、非选择题:共56分。第23~24题为必考题,每个试题考生都必须作答。第25~26题为选考题,考生根据要求作答。

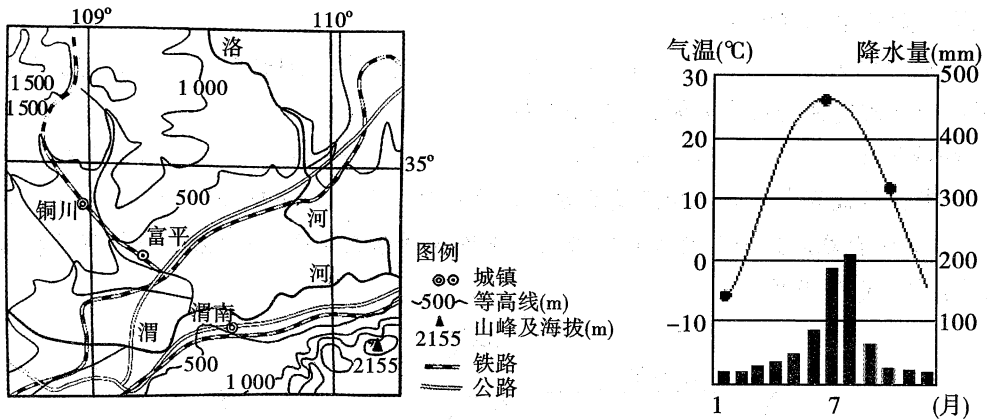
(一)必考题:共46分。

23. (24分) 阅读图文材料,完成下列要求。

柿子树耐寒、耐旱,喜湿润,忌积水,适应性强。富平县位于陕西省中部,是全国著名的“柿子之乡”“柿饼之乡”。富平县汉初就有栽植柿子树的习惯,目前建有优质柿子基地10万亩,年产鲜

柿 4000 万公斤,制作柿饼 800 万公斤,鲜柿、柿饼产量每年递增 20% 以上。

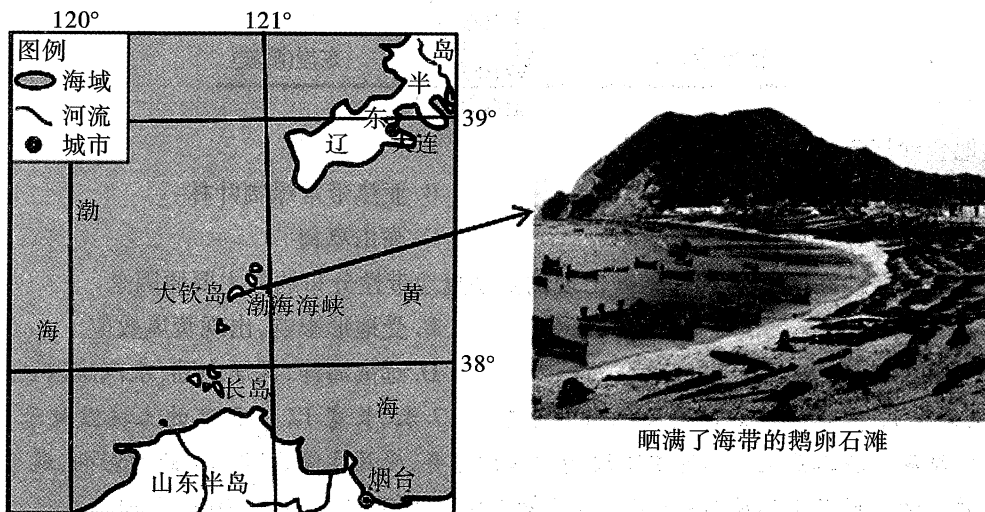
柿饼是富平特产、中国国家地理标志产品。明朝时,富平柿饼的制作工艺已十分成熟,并作为贡品进献皇宫;近些年更是连年出口韩国、日本、朝鲜、俄罗斯、加拿大等国,深受消费者喜爱。富平尖柿一般于 10 月下旬采摘,后经削皮、脱涩、软化、晾晒捏型、出霜等十多道工序,历时 45 天时间制成个大、口味香甜的柿饼。下面两图分别为富平县位置图和富平县气候资料图。



- (1) 说出富平县发展尖柿种植的优势自然条件。(6分)
- (2) 简析富平县成为“柿饼之乡”的原因。(4分)
- (3) 推测富平县柿饼晾晒的时间,并从气候角度说明理由。(8分)
- (4) 请为富平县柿饼产业的可持续发展提出建议。(6分)

24. (22分) 阅读图文材料,完成下列要求。

大钦岛位于黄、渤海交汇处,与大陆相隔 50 多公里。每年大钦岛风力  $\geq 6$  级的大风日数有 200 多天。该岛 50% 以上的海岸为基岩海岸,多峭壁、海蚀崖。岛上海湾沿岸,分布着我国最大的天然鹅卵石滩。鹅卵石滩具有砾石光滑、颗粒大、滩面孔隙度大、坡度陡等特点。每年的 6~8 月,岛上渔民将从海里收获的海带平铺到鹅卵石滩上晾晒,晒干的海带品相好,卖价高,大钦岛被誉为中国“海带之乡”。



- (1)解释大钦岛每年大风日数多的自然原因。(4分)
- (2)从外力作用角度,说明大钦岛鹅卵石滩的形成过程。(6分)
- (3)与平坦沙滩相比,分析该岛鹅卵石滩晾晒海带的优势。(8分)
- (4)有人建议开采岛上鹅卵石资源作为建筑材料销往烟台,但多数人反对。请说明反对的理由。(4分)

(二)选考题:共10分。请考生从第25、26两道地理题中任选一题作答。如果多做,则按所做的第一题计分。

25.(10分)【地理——选修3:旅游地理】

近年来,在法国从电力公司、标致汽车等大型公司,到奶酪工坊、香皂厂等中小型企业,2000多家企业向游客敞开了大门,以开放工厂、设立博物馆等方式吸引游客参观,在参观中游客能与工作人员交流,可以触摸原材料,看到生产过程,闻到产品的味道,有些还能品尝。这种“体验式”的企业游吸引着越来越多的企业、游客参与其中。统计数据显示,法国开放参观的企业中,93%都是中小企业或者小微企业,34%的企业拥有50年以上的历史。右图示意法国波尔多一家历史悠久的酒庄,酒庄工作人员正在向游客讲解造酒过程。



说明越来越多的法国企业和游客参与企业游的原因。

26.(10分)【地理——选修6:环境保护】

2019年春,洪泽湖首次实施大规模人工增殖放流,将经人工培育的、国家检疫合格的十万公斤赤眼鳟,鳙鱼、鲢鱼、蟹等优质本地特色鱼种投入洪泽湖。通过放流鳙鱼,利用其食藻习性,可有效缓解湖区富营养化程度,降低湖区蓝藻爆发,抑制水草泛滥。今年,洪泽湖渔政部门还将分二十余次放流其它各类苗种两亿尾(只),其中含濒危鱼种,使其逐渐形成自然繁殖的野生种群。目前,我国是世界上增殖放流资金投入最多、放流规模最大、放流效果最显著的国家之一。

从环境保护角度,分析洪泽湖开展渔业资源增殖放流的积极意义。

# 2018~2019 学年度第二学期期末校际联考

## 高二地理试题参考答案及评分标准

一、选择题:本大题共 22 小题,每小题 2 分,共 44 分。在每小题给出的四个选项中,只有一项是符合题目要求的。

1. B    2. C    3. D    4. C    5. A    6. D    7. A    8. C    9. B    10. A    11. C  
12. B    13. A    14. D    15. C    16. B    17. C    18. A    19. D    20. B    21. D    22. A

二、非选择题:共 56 分。第 23~24 题为必考题,每个试题考生都必须作答。第 25~26 题为选考题,考生根据要求作答。

(一)必考题:共 46 分。

23. (24 分)(1)夏季雨热同期,水热丰富,秋季降水少,光照充足,昼夜温差大,利于糖分的积累;地势平缓,有一定坡度,利于排水;土壤肥沃,土层深厚;靠近河流,有便利的灌溉水源等。(任答出其中 3 点即可,每点 2 分,共 6 分)
- (2)柿子种植面积大,产量高,制作柿饼的原料丰富;柿饼制作历史悠久,制作工艺先进,品质优良,市场广阔等。(每点 2 分,共 4 分)
- (3)时间:10 月底~12 月初。(2 分)理由:此时段秋高气爽,降水少,光照充足,便于晾晒;秋季风力作用强,蒸发量大,便于风干;昼夜温差大,便于糖分析出。(每点 2 分,共 6 分)
- (4)加大科技投入,改良品种;延长产业链,发展与柿饼相关的产品加工业,提高附加值;培养品牌意识,加大营销力度,拓展市场;利用历史文化传统,发展柿子采摘、柿饼加工参观等相关的旅游;合理利用土地资源,减少对生态环境的破坏等。(任答出其中 3 点即可,每点 2 分,共 6 分)
24. (22 分)(1)大钦岛位于季风气候区,冬季盛行西北风,夏季盛行东南风;(2 分)大钦岛位于渤海海峡中部(的风口),东西两侧为开阔的海面,无陆地或岛屿阻挡季风(或渤海海峡被南、北侧半岛扼住,形成喇叭口状海峡,加剧了风速)。(2 分)
- (2)大钦岛多基岩海岸,海岸出露的岩石经风化作用而崩解破碎;碎石(砾石)在海浪侵蚀或搬运中不断磨蚀成为鹅卵石;在海湾地区随着波浪、潮流搬运作用减弱,鹅卵石在海边堆积,形成鹅卵石滩。(每点 2 分,共 6 分)
- (3)与平坦沙滩相比,鹅卵石滩孔隙度更大,空气流动性好,便于水分蒸发;坡度较陡,利于海带携带的水分迅速排走;白天,鹅卵石升温更快,更利于快速晾干海带;鹅卵石颗粒更大且表面光洁,使晒干的海带更干净(少沙子、泥土等杂质),品质好。(每点 2 分,共 8 分)
- (4)理由:大钦岛离烟台较远,且鹅卵石重量大,运输成本较高,经济效益不佳;鹅卵石滩具有良好的海岸防护功能,开采鹅卵石会导致海岸生态环境破坏;鹅卵石滩有晾晒海带的作用,开采鹅卵石不利于生产优质干海带。(任答出其中 2 点即可,每点 2 分,共 4 分)

(二)选考题:共 10 分。请考生从第 25、26 两道地理题中任选一题作答。如果多做,则按所做的第一题计分。

25. (10 分)【地理——选修 3:旅游地理】

企业参与:企业游能使企业透明开放的接受消费者监督,赢得消费者对企业的信赖,维护和改善企业良好形象;企业游可以传递企业的价值观和悠久的历史,展示和保护企业历史和文化遗产;企业游是企业进行市场营销和品牌推广的重要手段,提高知名度,增加企业收入。(每点 2 分,共 6 分)

游客参与:游客可以获得独一无二的体验,增长见识,满足好奇心;可以身临其境地了解企业的生产环境、卫生标准、产品质量等,形成对企业和产品的印象和评价。(每点 2 分,共 4 分)

26. (10 分)【地理——选修 6:环境保护】

补充各种鱼类数量,恢复鱼类种群;丰富渔业资源种类,保持生物多样性;利用部分鱼类食藻习性,抑制水草泛滥,减轻水体富营养化程度,改善水质;促进渔业可持续发展;改善湖区生态环境。(每点 2 分,共 10 分)