

江西师大附中上学期高一年级地理期末试卷



一、选择题 (每题 2 分, 共 30 分)

读“部分气压带、风带分布示意图”, 完成 31~33 题。

31. 图中乙表示()

- A. 极地高压带
- B. 副极地低气压带
- C. 副热带高压带
- D. 赤道低压带

32. 常年受丙控制地区的气候特征一般是()

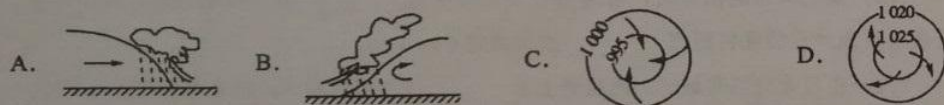
- A. 全年温和湿润
- B. 全年高温少雨
- C. 夏季炎热干燥, 冬季温和湿润
- D. 夏季高温多雨, 冬季寒冷干燥

33. 图示季节南昌地区最可能()

- A. 桃花盛开
- B. 烈日炎炎
- C. 秋高气爽
- D. 漫天飞雪

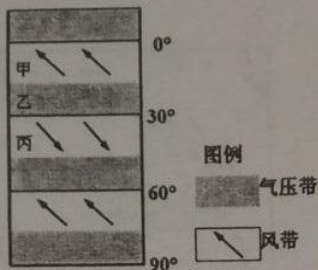
《白雪歌送武判官归京》中有这样一段诗句:“北风卷地白草折, 胡天八月即飞雪; 忽如一夜春风来, 千树万树梨花开。”据此回答下列问题。

34. 下图中导致“忽如一夜春风来, 千树万树梨花开”这一天气现象的天气系统是()

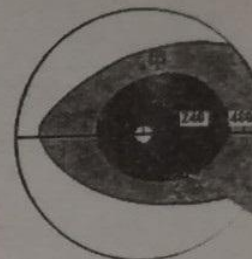


35. 下列天气现象的成因与诗中描述现象成因相同的是()

- ①我国北方夏季的暴雨
 - ②华北地区的沙尘暴天气
 - ③南方沿海地区的台风天气
 - ④贵阳秋冬季节的“天无三日晴”
 - ⑤江淮地区 7~8 月的伏旱天气
 - ⑥我国北方秋冬季节的寒潮
- A. ①④⑤
 - B. ①②③
 - C. ①③⑥
 - D. ②⑤⑥



下图为影响我国的某天气系统海面风力分布示意图, 读图完成 36-37 题。



36. 该天气系统是()

- A. 冷锋
- B. 暖锋
- C. 气旋
- D. 反气旋

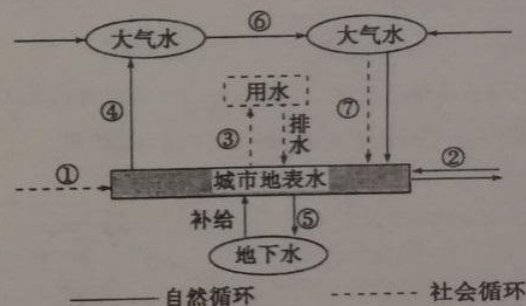
37. 图中甲地风向为()

- A. 东南风
- B. 西南风
- C. 西北风
- D. 东北风

38. 地球上各种水体储量所占的比重, 由大到小的排列顺序为()

- A. 海洋水、冰川、地下水、湖泊水
- B. 海洋水、河水、冰川、地下水
- C. 海洋水、河水、湖泊水、大气水
- D. 大气水、土壤水、沼泽水、生物水

读某海域表层年平均等温线分布图, 读图完成 39~40 题。



39. 图中①②③⑦分别表示()

- A. 地表径流、地下径流、蒸发、人工降水
- B. 地下径流、地表径流、管道输水、跨区域调水
- C. 地表径流、跨区域调水、蒸发、人工降水
- D. 跨区域调水、地表径流、管道输水、人工降水

40. 关于人类对城市水循环影响的叙述, 正确的是()

- A. 城市绿地建设, 可以减少⑥
- B. 大量开采地下水, 可以增加④
- C. 污水回收利用, 可以减少②
- D. 用透水材料改造水泥路面, 可以增加⑤

41. 全球变暖引起的后果有 ()

- A. 蒸发强烈, 海平面下降
- B. 陆地面积增加
- C. 干旱、暴雨、洪涝等灾害减少
- D. 温带耕作区向高纬度方向延伸

42. 下图所示为常见于我国西北地区如蘑菇状的地貌景观, 其成因是 ()

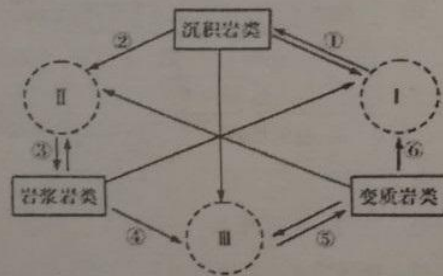


- A. 风力侵蚀
- B. 风力堆积
- C. 流水侵蚀
- D. 冰川侵蚀

43. 内力作用的能量主要来自 ()

- A. 太阳辐射能
- B. 潮汐能
- C. 重力能
- D. 地球内部热能

下图为“岩石圈物质循环示意图”, 图中 I、II、III 分别代表沉积环境、熔融环境和变质环境, 箭头线代表不同的地质过程。读图, 回答 44-45 题。



44. 大理岩的形成过程属 ()

- A. ②
- B. ③
- C. ④
- D. ⑤

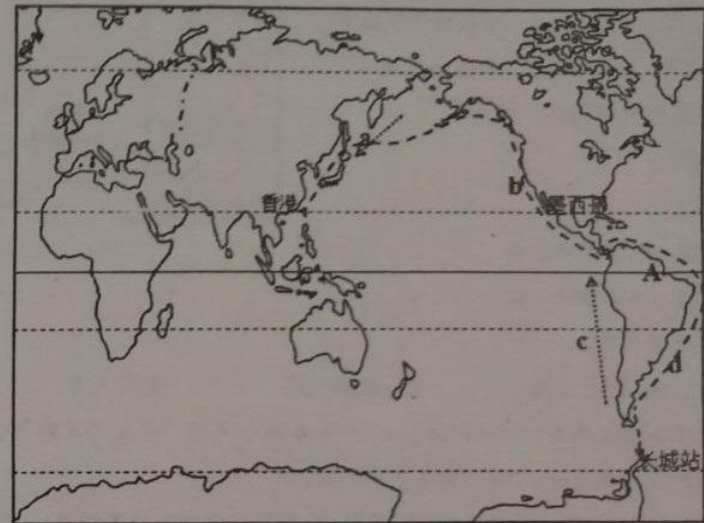
45. 古生物进入并成为岩石中化石的地质环境和过程是 ()

- A. I—①
- B. II—③
- C. III—⑤
- D. ⑥—I

二、填空题 (共 10 分)

48. 阅读材料回答下列问题。

2013 年 5 月, 中国年轻的探险家张昕宇与梁红驾驶着一艘帆船从香港开始了环球航行之旅, 历时 200 多天, 于 2014 年 2 月顺利抵达南极中国长城站。下图为他们航线线路图, 读图完成以下问题。



(1) 他们从香港出发时, 香港昼夜长短情况是_____, 抵达长城站时, 南极地有极昼现象, 且极昼范围在_____ (扩大或缩小)。

(2) 在日本北部海域时, 帆船遇上 a _____ (洋流名称), 此地由于寒暖流交汇, 有著名的 _____ 渔场, 但该海域附近多海雾, 航行条件不佳。途经美国及墨西哥附近海域时, 受 b _____ (洋流名称), 航行较为顺利, 该洋流对沿岸气候有 _____ 的作用。

(3) 航行线路没有选择更近的南美洲西海岸而是绕道到南美洲东海岸, 是因为西岸有势力强劲的 c _____ (洋流名称), 而东海岸有顺着航行方向的 d _____ (洋流名称)。

(4) 图中赤道附近 A 处, 受赤道低压控制, 盛行 _____ 气流, 形成 _____ 气候。