

## 高一地理试题

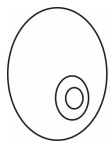
### 注意事项:

1. 本试卷共 8 页,全卷满分 100 分,答题时间 90 分钟;
2. 答卷前,考生须准确填写自己的姓名、准考证号,并认真核准条形码上的姓名、准考证号;
3. 第 I 卷选择题必须使用 2B 铅笔填涂,第 II 卷非选择题必须使用 0.5 毫米黑色墨水签字笔书写,涂写要工整、清晰;
4. 考试结束,监考员将试题卷、答题卡一并收回。

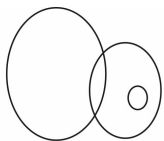
### 第 I 卷(选择题 共 70 分)

一、选择题(本大题共 35 小题,每小题 2 分,计 70 分。下列各题的四个备选答案中只有一个是符合题意的)

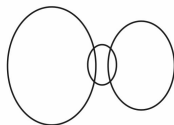
1. 河外星系、太阳系、地球三者之间的关系符合下列示意图中的是:



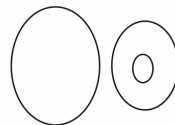
A.



B.



C.



D.

“It's not just planet, It's home.”是对地球在太阳系中地位的恰如其分的评价。据此回答第 2 题。

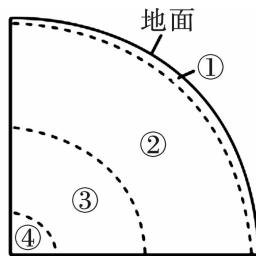
2. 地球的特殊性表现在

- |                  |                     |
|------------------|---------------------|
| A. 质量在八颗行星中最小    | B. 公转方向与八大行星不同      |
| C. 既有自转运动,又有公转运动 | D. 太阳系中唯一有高级智慧生物的行星 |

五大连池风景名胜面积 1060 平方千米,14 座新老时期火山的喷发年代跨越 200 多万年,被誉为“天然火山博物馆”和“打开的火山教科书”。五个火山堰塞湖连在一起,被称为五大连池。结合“五大连池(局部)景观图”和“地球的内部圈层结构图”(下图),回答第 3 题。



五大连池



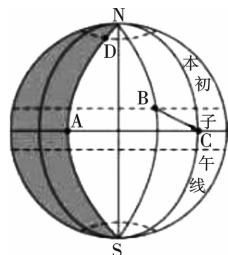
地球的内部圈层结构

3. 从火山口喷出的炽热岩浆一般来源于

- A. ①圈层                      B. ②圈层                      C. ③圈层                      D. ④圈层

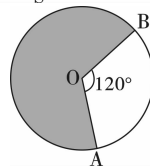
4. 读右图,下列关于 A、B、C、D 四点自转线速度的比较,正确的是

- A.  $A = C < B < D$   
 B.  $A = C > B > D$   
 C.  $A = D < B < C$   
 D.  $A = D > B > C$



5. 右图中的 O 点表示北极点,阴影区为 9 月 22 日,空白部分为 9 月 21 日,判断 OA、OB 的经度分别为

- A.  $180^\circ, 60^\circ W$                       B.  $60^\circ W, 180^\circ$   
 C.  $60^\circ E, 180^\circ$                       D.  $180^\circ, 60^\circ E$



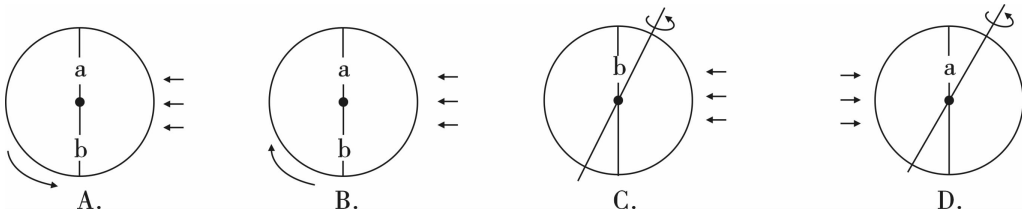
6. 第二十三届冬奥会于 2018 年 2 月 9 日 ~ 25 日在韩国平昌举行,在此期间,平昌的昼夜长短状况及其变化是

- A. 昼短夜长,昼渐短                      B. 昼短夜长,夜渐短  
 C. 昼长夜短,夜渐短                      D. 昼长夜短,昼渐短

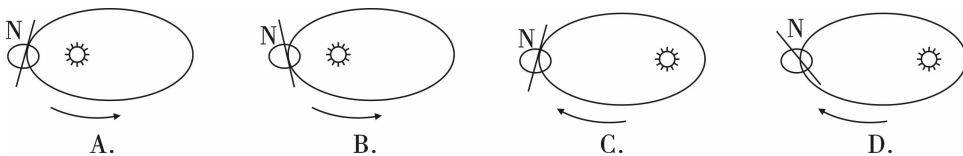
7. 北京时间 2017 年 10 月 18 日上午 9:00,中国共产党第十九次全国代表大会在人民大会堂开幕。此时在纽约(西五区)的华人华侨观看十九大开幕式现场直播,是当地时间是

- A. 10 月 19 日 22: 00                      B. 10 月 18 日 22: 00  
 C. 10 月 17 日 20: 00                      D. 10 月 17 日 6: 00

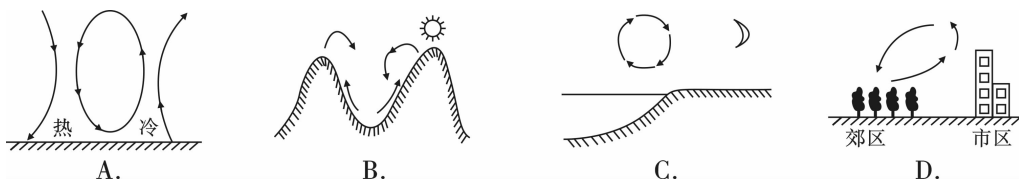
8. 图 a 表示晨线,b 表示昏线,箭头表示太阳光线,下图中表示正确的是



9. 下列四幅表示地球绕日公转的示意图中(从北极上空看),正确的是



10. 以下几种环流形式不正确的是



如下表为杭州市 2017 年 11 月 28 日、11 月 30 日和 12 月 2 日天气信息表。据此完成第 11 题。

	最高气温 (°C)	最低气温 (°C)	风力	天气状况
11 月 28 日	22	11	微风	秋高气爽
11 月 30 日	7	2	北风 3 级	小到中雨
12 月 2 日	9	2	北风 2 级	晴

11. 12 月 2 日, 下列可能出现的现象, 正确的是

- A. 清晨, 室外的乒乓球台上结了薄薄的一层白霜
- B. 中午, 迷雾重重, 仍未散尽
- C. 天气晴朗, 阳光明媚, 气压降低
- D. 由于受暖气团控制, 气温较昨日有所升高

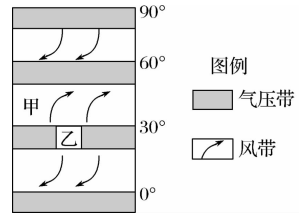
12. 地球上赤道低气压带最主要的降水类型是

- A. 对流雨
- B. 锋面雨
- C. 台风雨
- D. 地形雨

读局部气压带、风带分布示意图(右下图), 完成 13~14 题。

13. 甲表示

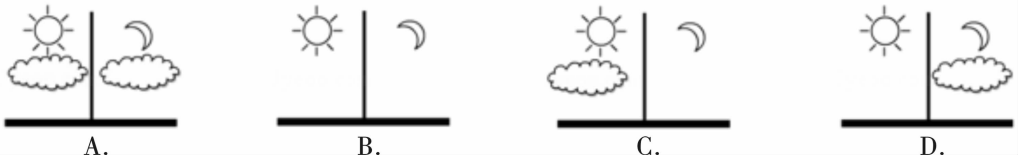
- A. 极地东风带
- B. 中纬西风带
- C. 东南信风带
- D. 东北信风带



14. 常年受乙气压带控制地区的气候特征是

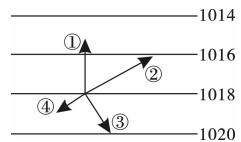
- A. 全年温和湿润
- B. 夏季高温干燥, 冬季温和湿润
- C. 全年高温少雨
- D. 夏季高温多雨, 冬季寒冷干燥

15. 如图所示几种情况中, 昼夜温差最小的是



16. 右图中表示(北半球)近地面风向的箭头是

- A. ①
- B. ②
- C. ③
- D. ④

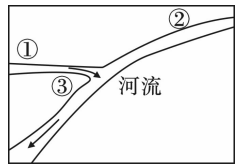


17. 如右图所示, 一架飞机在北半球自东向西飞行, 飞机左侧是高压, 可判断

- A. 顺风飞行
- B. 逆风飞行
- C. 飞机在信风带中飞行
- D. 风从北侧吹来

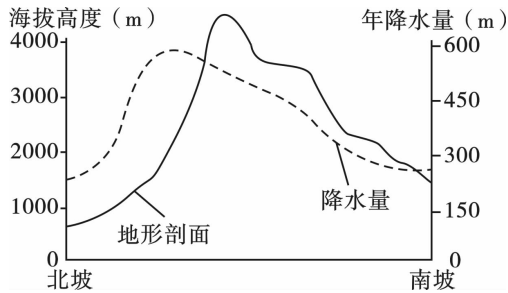


18. 读右图(图中数字表示乡村聚落),三个聚落中最有可能先发展为城市的是



- A. ①  
B. ①③  
C. ①②  
D. ③

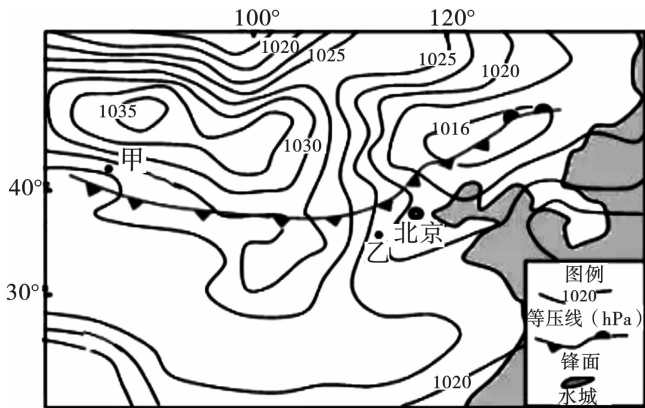
读我国某山地年降水量随高度变化示意图(下图),回答第19题。



19. 就相同海拔高度来说,该山地南北两坡年降水量

- A. 大体相等  
B. 北坡较多  
C. 南坡较多  
D. 难以判断

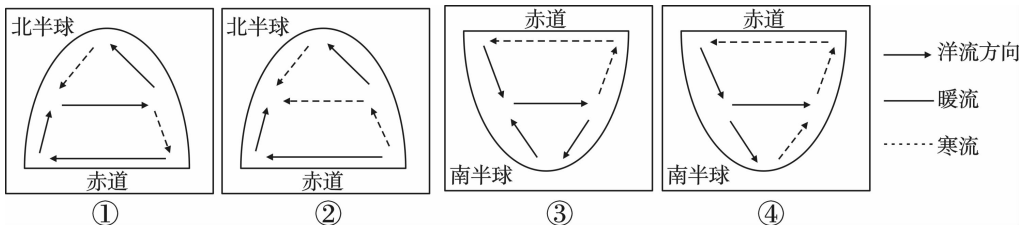
20. 读下图,某区域2017年11月7日8:00等压线分布图,判断甲、乙两地



- A. 甲地风力小于乙地  
B. 甲地风向与乙地相同  
C. 甲地气压小于乙地  
D. 甲地温度比乙地低

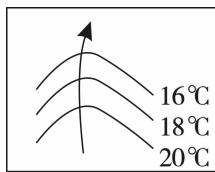
读图,回答21~22题。

21. 下图中能正确表示洋流模式的是

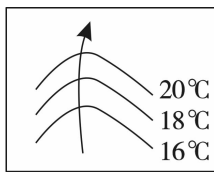


- A. ①  
B. ②  
C. ③  
D. ④

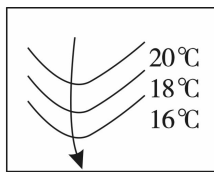
22. 下列属于北半球暖流的是



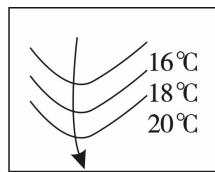
A.



B.

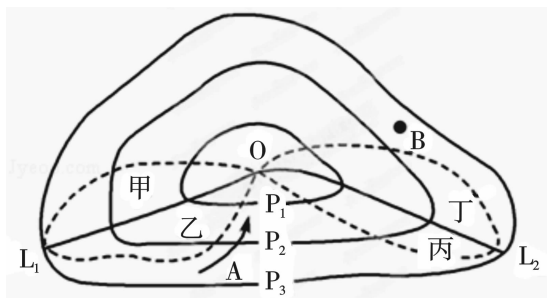


C.



D.

下图中  $P_1$ 、 $P_2$ 、 $P_3$  表示三条不同数值的等压线, A 处的箭头表示风向。读图回答第 23 题。



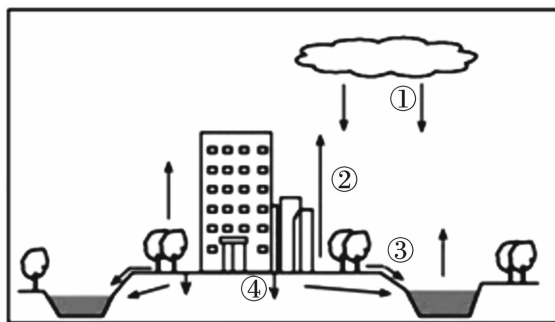
23. 该天气系统为

- A. 北半球气旋      B. 南半球气旋      C. 北半球反气旋      D. 南半球反气旋

24. 与正常年份相比,夏季风强的年份,我国东部季风区容易出现的现象是

- A. 北方雨季开始晚      B. 南方雨季开始晚      C. 南方降水增多      D. 北方降水增多

如图为“南方某城市水循环部分环节示意图”(下图),回答 25~26 题。



25. 某次强降水后城市发生内涝,原因是图中

- A. ①强度大      B. ②受阻      C. ③过快      D. ④增大

26. 关于水循环地理意义的正确叙述是

- A. 使陆地水资源不断更新      B. 使水呈三态变化  
C. 加速了冰川的融化      D. 使海平面上升

“黑烟囱”是指海水从地壳裂缝渗入地下,遇到熔岩被加热,周围岩层中的金银等金属又从地下喷出,这些金属经过化学反应形成硫化物沉积在附近的海底,像“烟囱”形状一样堆积而成。读右下图,回答 27~28 题。

27. 图中“黑烟囱”区域主要位于

- ①非洲板块与印度洋板块的消亡边界上
- ②非洲板块与印度洋板块的生长边界上
- ③印度洋板块与南极洲板块的生长边界上
- ④非洲板块与南极洲板块的消亡边界上

- A. ①②
- C. ①④

- B. ③④
- D. ②③



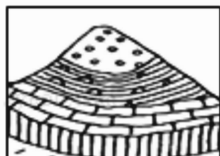
28. “黑烟囱”在成因上属于

- A. 沉积岩
- B. 变质岩
- C. 侵入岩
- D. 喷出岩

29. “会当凌绝顶，一览众山小”。以下各图与泰山的形成原因相吻合的是



A.



B.

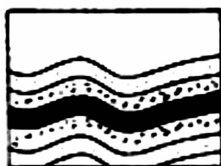


C.



D.

30. 下列各图反映的地理现象,主要由外力作用形成的是




A.



B.



C.



D.

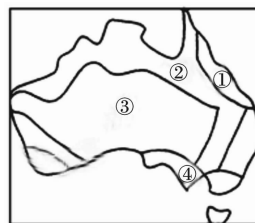
读下面“澳大利亚自然带分布示意图”,回答 31~33 题。

31. 和①处自然带的形成无关的因素是

- A. 暖流
- B. 山脉迎风坡
- C. 大气环流
- D. 寒流

32. ④地自然带的名称是

- A. 温带落叶阔叶林带
- B. 亚热带常绿硬叶林带
- C. 热带草原带
- D. 温带草原带



33. 自然带①→②→③体现的自然带地域分异规律是

- A. 由赤道到两极的地域分异
- B. 从沿海到内陆的地域分异
- C. 山地的垂直地域分异
- D. 陆地环境的整体性

海水淡化进京项目是除南水北调工程之外的另一个战略构想。据此回答 34 ~ 35 题。

34. 北京市水资源利用方面主要面临的问题是

- A. 河流频繁改道
- B. 生产用水被严重污染
- C. 人均水资源少
- D. 居民饮用水供应困难

35. 北京为解决水资源问题,应采取的措施有

- ①人工降雨
- ②南水北调
- ③海水淡化
- ④建再生水厂
- ⑤开采地下水
- ⑥实行居民阶梯水价

- A. ①②④⑥
- B. ①③④⑤
- C. ②③④⑥
- D. ②③⑤⑥

## 第 II 卷(非选择题 共 30 分)

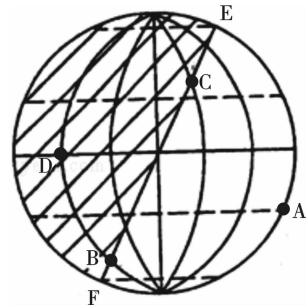
### 二、非选择题(本大题共 3 小题,计 30 分)

36. (13 分)读“太阳光照图”(阴影表示黑夜,非阴影表示白天)(右下图),回答下列问题。

(1)在图上画出太阳照射光线。

(2)图 EF 线的名称叫\_\_\_\_\_。(晨线、昏线)

(3)该图表示北半球的节气为\_\_\_\_\_,其判断依据是\_\_\_\_\_。



(4)此时此刻, A、B、C、D 四点中太阳高度小于 0 的是\_\_\_\_\_。

\_, 等于 0 的是\_\_\_\_\_。

(5)该日 A、B、C、D 四点中,正午太阳高度最小的是\_\_\_\_\_,白昼时间最长的是\_\_\_\_\_。

(6)此时此刻, A 点的地方时是\_\_\_\_\_时, D 点的日出时间是\_\_\_\_\_时。这一天

C 点的昼长是\_\_\_\_\_小时。

(7)当天, D 地的正午太阳高度角是\_\_\_\_\_, A 地的正午太阳高度角是\_\_\_\_\_。

37. (10 分)图 1 表示 30°N ~ 60°N 的亚欧大陆部分示意图,读图回答下列问题。

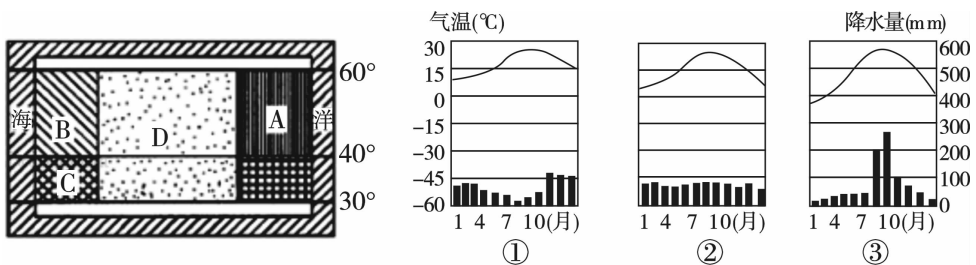


图1

图2

(1)图中 A 地的气候类型为\_\_\_\_\_气候,其气候特征是\_\_\_\_\_。

(2) B、C 两地中,常年受西风带控制的地区是\_\_\_\_\_ ;冬雨夏干的气候分布在\_\_\_\_\_ 地区,其形成原因是\_\_\_\_\_。

(3) D 处常年受\_\_\_\_\_ 气团控制,其气候特征为\_\_\_\_\_。

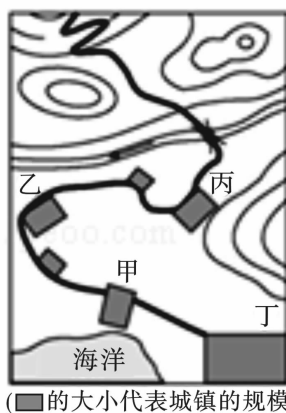
(4) 图 2 为三种气候类型的气温曲线和降水量柱状图,将其序号与上述气候类型的代表字母对应填空:①\_\_\_\_\_,②\_\_\_\_\_,③\_\_\_\_\_。

38. (7 分) 阅读下列图表,回答问题。

材料一:修建公路和铁路的最大限制坡度。

交通运输干线类型	最大限制坡度
公路	7° ~ 9°
铁路	3°

材料二:交通线示意图(下图)。



(1) 与平原比较,山地相对高度比较大,地形崎岖,对交通运输\_\_\_\_\_ 的选择、交通运输\_\_\_\_\_ 的分布和延伸方向影响比较大。

(2) 一般来说,在山区修建铁路和公路时,人们通常优先修建\_\_\_\_\_,在线路选址时,通常会把线路地址选在\_\_\_\_\_,原因是\_\_\_\_\_。

(3) 该交通线绕道经过甲、乙两地,原因是\_\_\_\_\_。



临渭区 2018 ~ 2019 学年度第一学期期末教学质量检测

高一地理试题参考答案及评分标准

第 I 卷(选择题 共 70 分)

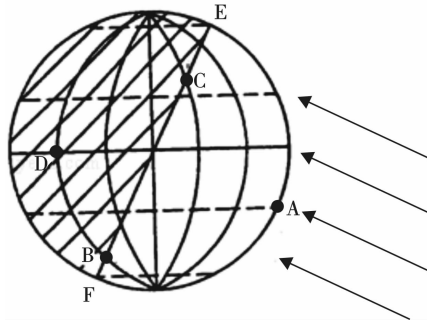
一、选择题(本大题共 35 小题,每小题 2 分,计 70 分)

题号	1	2	3	4	5	6	7	8	9	10	11	12	13	14	15
答案	D	D	B	B	A	B	C	B	B	A	A	A	B	C	A
题号	16	17	18	19	20	21	22	23	24	25	26	27	28	29	30
答案	B	B	D	B	D	A	A	A	D	A	A	D	A	C	C
题号	31	32	33	34	35										
答案	D	B	B	C	C										

第 II 卷(非选择题 共 30 分)

二、非选择题(本大题共 3 小题,计 30 分)

36. (每空 1 分,共 13 分)(1)



(2)晨线

(3)冬至 ①南极圈以南(北极圈以北)出现极昼现象;②南半球(北半球)的昼(夜)长达到一年中的最大值;③南回归线以南的正午太阳高度达一年中最大值或北半球的正午太阳高度达一年中的最小值。(任答一点,即可得分)

(4)D BC

(5)C B

(6)12 6 8

(7)66°34' 90°

37. (每空 1 分,共 10 分)(1)温带季风 冬季寒冷干燥,夏季炎热多雨

(2)B C 冬季受西风带控制,夏季受副热带高压带控制

(3)大陆 冬寒夏热,干燥少雨

(4)C B A

38. (7 分)(1)方式(1 分) 线路(1 分)

(2)公路(1 分) 地势相对和缓的山间盆地和河谷地带(1 分) 建设成本低、难度小(1 分)

(3)增加交通运输量,方便甲、乙两地客货集散,提高经济效益(2 分)