

高一地理试题

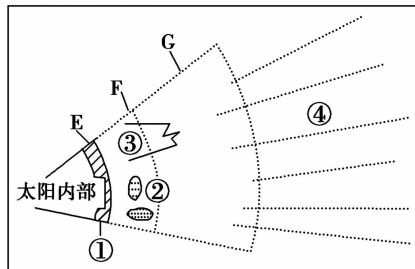
注意事项:

1. 本试卷共 6 页,全卷满分 100 分;
2. 答卷前,务必将自己的姓名、准考证号填写在答题卡相应位置处;
3. 选择题必须使用 2B 铅笔填涂,非选择题必须使用 0.5 毫米黑色墨水签字笔书写,涂写要工整、清晰;
4. 考试结束,监考员将试题卷、答题卡一并收回。

第 I 卷(选择题 共 50 分)

一、单项选择题(本大题共 25 小题,每小题 2 分,计 50 分。在每小题给出的四个选项中只有一项是符合题目要求的。)

读太阳外部结构示意图(下图),完成 1~2 题。



1. 图中太阳的外部大气层 E、F、G 分别代表

A. 色球层、光球层、日冕层	B. 光球层、色球层、日冕层
C. 日冕层、光球层、色球层	D. 光球层、日冕层、色球层
2. 下列关于太阳活动的叙述,正确的是

①太阳黑子和耀斑都出现在色球层上	②太阳活动的平均周期大约是 11 年	③太阳活动增强与否,对地球无大的影响	④耀斑爆发时间短,释放的能量巨大
A. ①②	B. ①③	C. ②④	D. ③④

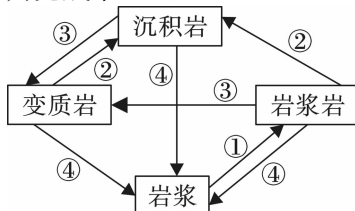
第十九届亚运会于 2018 年 8 月 18 日~9 月 2 日在印度尼西亚的雅加达(106°E,6°N)举办,开幕式于当地时间 8 月 18 日 19 时举行。据此回答 3~4 题。

3. 在美国洛杉矶(西八区)的小明想收看开幕式直播,应在当地时间(区时)_____前打开电视。

A. 18 日 4 时	B. 19 日 3 时	C. 18 日 11 时	D. 18 日 7 时
-------------	-------------	--------------	-------------
4. 本次亚运会举办过程中,西安昼夜长短及正午太阳高度的变化情况为

A. 昼短夜长 变小	B. 昼短夜长 变大
C. 昼长夜短 变大	D. 昼长夜短 变小

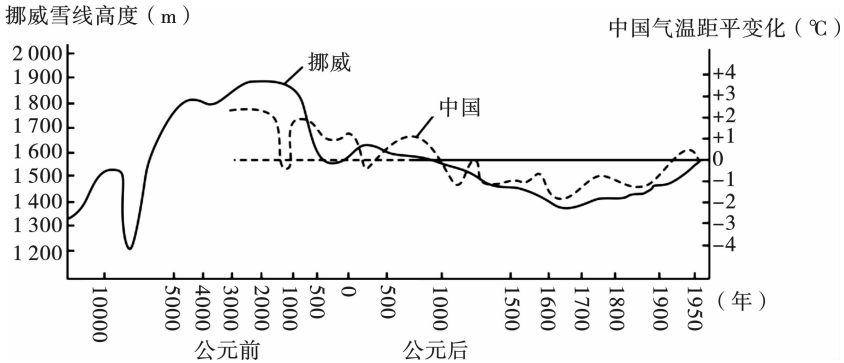
读地壳物质循环示意图(下图),完成第 5 题。



C. 爬行动物→海生无脊椎动物→脊椎动物


D. 爬行动物→脊椎动物→海生无脊椎动物

读“中国的气温变化(虚线)与挪威雪线高度变化(实线)比较图”(下图),完成13~15题。



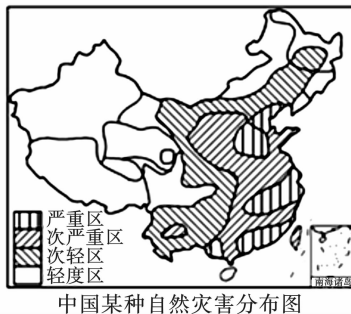
13. 公元1700年以后,中国气温变化趋势为
A. 逐年上升 B. 逐年下降 C. 波动下降 D. 波动上升
14. 近300年来挪威雪线高度变化的主要原因是
A. 海平面上升 B. 全球气候变暖
C. 降水量增加 D. 太阳辐射增强
15. 下列关于气温升高对我国造成的影响,叙述不正确的是
A. 将减少我国的能源消耗
B. 加剧北方地区的干旱程度
C. 对农作物的产量、品种及农业生产的稳定性造成一定的影响
D. 扩大某些疾病的传播范围,对人体健康造成危害

读人类文明发展的四个阶段示意图(下图),完成16~17题。



16. 世界能源从图中哪个时期进入“煤炭时代”
A. ① B. ② C. ③ D. ④
17. 人类的生存和发展明显受地形、气候、水文等自然条件制约的时期是
A. ①② B. ①③ C. ③④ D. ②③

读“我国某种自然灾害分布示意图”(下图),完成18~19题。

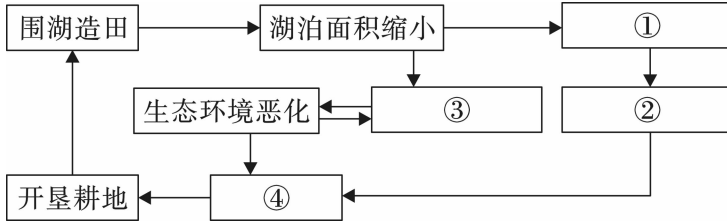


18. 图示的自然灾害是
A. 寒潮 B. 泥石流 C. 洪涝 D. 台风

19. 为减轻图中灾害的损失,以下措施中收效较快的是

- A. 营造海防林
- B. 建设水利工程
- C. 建立自然保护区
- D. 建设河流污水治理工程

下图为“某地区地理环境要素联系示意图”。读图完成 20~21 题。



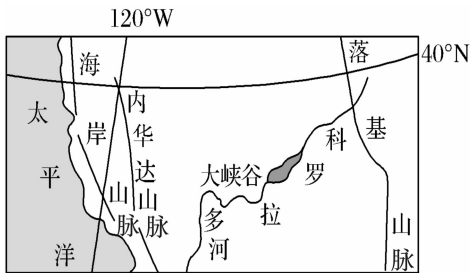
20. 图中①~④方框内应填入的内容,排序正确的是

- A. 生物多样性减少、调蓄能力减弱、洪涝灾害加剧、粮食产量下降
- B. 洪涝灾害加剧、调蓄能力减弱、生物多样性减少、粮食产量下降
- C. 调蓄能力减弱、洪涝灾害加剧、生物多样性减少、粮食产量下降
- D. 粮食产量下降、生物多样性减少、调蓄能力减弱、洪涝灾害加剧

21. 关于图示地理环境要素间关系揭示的原理,下列叙述错误的是

- A. 地理环境各要素是相互影响、相互制约的
- B. 各地自然地理环境的总体特征是不一样的
- C. 地理环境一个要素的变化会导致其他要素相应变化
- D. 某地理环境的改变会导致其他环境的变化

科罗拉多大峡谷位于美国西部山区,大致呈东西走向,平均深度超过 1 500 米,岩层中含有生物化石,峡谷北壁高,南壁低,北壁为森林草原风光,南壁有千澜石山上的耐旱松柏,谷底为荒漠,下图为大峡谷位置示意图及景观图。读图完成 22~23 题。



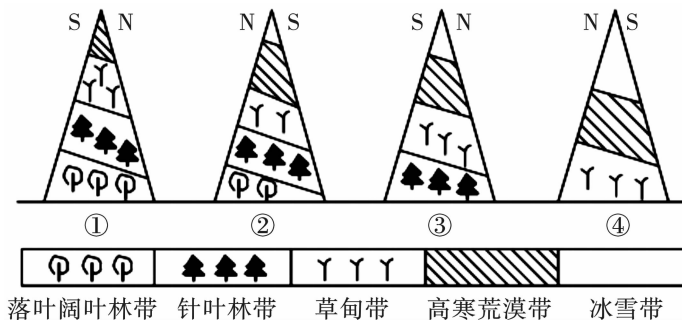
22. 大峡谷的植被分布,体现了

- A. 纬度地带分异规律
- B. 干湿程度地带分异规律
- C. 垂直分异规律
- D. 地方性分异规律

23. 形成大峡谷南、北壁植被差异的主要原因是

- A. 北壁为湿润气流迎风坡
- B. 北壁纬度高,水汽充足
- C. 南壁受上升气流影响
- D. 南壁纬度高,蒸发量大

假设图中山地海拔相同,读四幅山地垂直带谱示意图(下图),完成 24~25 题。

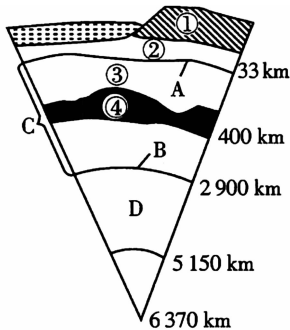


24. 根据四个山地植被的分布情况,判断它们的纬度由低到高依次是
 A. ①②③④ B. ②①④③ C. ①②④③ D. ②①③④
25. 图中最有可能位于北半球的有
 A. ①② B. ①③ C. ③④ D. ②④

第 II 卷(非选择题 共 50 分)

二、非选择题(本大题共 4 小题,计 50 分)

26. (12 分)读“地球内部构造示意图”(下图),回答下列问题。



(1) A 为 _____ 界面, B 为 _____ 界面。(2 分)

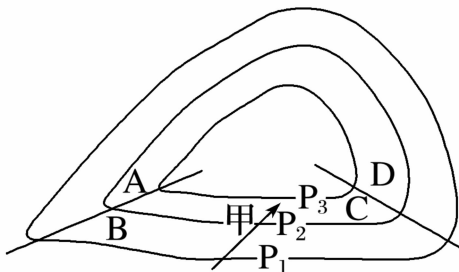
(2) 写出图中序号和字母代表的圈层名称:(5 分)

① + ② _____ ; ① + ② + ③ _____ ; ④ _____ ; C _____ ; D _____

(3) 被认为是岩浆发源地的是 _____ 层(写代号)。(1 分)

(4) 地震波通过 B 界面时,是如何变化的? 说明了什么?(4 分)

27. (12 分)在我国北方中高纬度地区,气旋往往和锋面联系在一起,我们称之为锋面气旋,下图中 P_1 、 P_2 、 P_3 表示等压线,甲处箭头表示风向。读图回答下列问题。



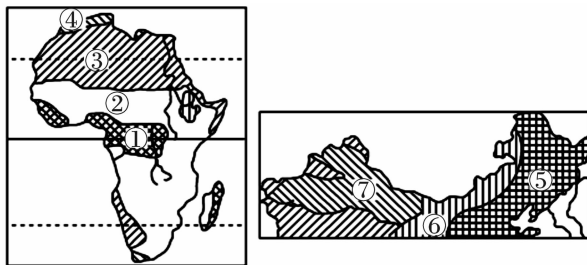
(1) 上图中天气系统位于 _____ (南/北) 半球,反映的是 _____ (地面/高空) 情况。判断的理由是什么?(4 分)

(2) 该天气系统属于 _____ (高/低) 气压中心。(1 分)

(3) 上图中甲地目前在 _____ 气团控制之下,不久将经历 _____ 锋过境。从图中可以看出锋面常发育在等压线弯曲最大点的连线附近,即 _____ 线附近。此时, A 地吹偏 _____ 风, B 地吹偏 _____ 风。(5 分)

(4) 如果冷、暖锋面均引起降水,那么降水主要在 A、B、C、D 中的 _____ 处和 _____ 处。(2 分)

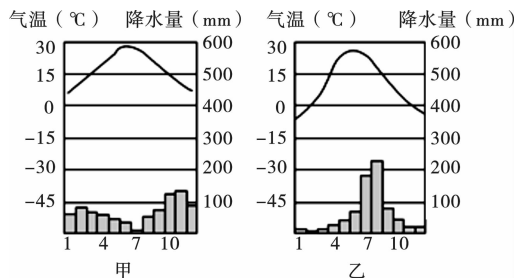
28. (14分) 下面两图为非洲和中国部分地区自然带分布示意图, 读图回答下列问题。



(1) 自然带由①到④的变化主要体现了_____分异规律, 其形成的基础是_____的差异; 自然带由⑤到⑦的变化主要体现了_____分异规律, 其形成的基础是_____条件的变化。(4分)

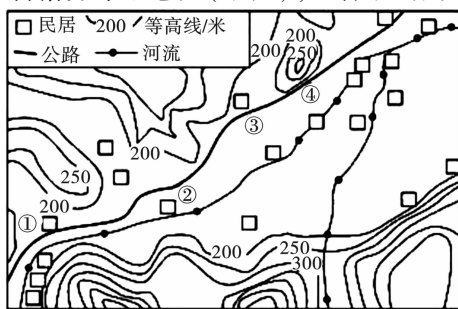
(2) 自然带④和⑤的名称分别是_____、_____。(2分)

(3) 甲、乙两图代表两种不同的气候类型, 其中与⑤自然带对应的气候类型是_____图。(2分)



(4) 图中③和⑦自然带的景观以荒漠为主, 其中③自然带所处地区由于终年受_____ (气压带) 或_____ (风带) 控制, 而降水少。③自然带在该洲南部西海岸呈条带状向低纬延伸的主要原因是_____, ⑦荒漠形成的原因是_____。(6分)

29. (12分) 读我国广西某村落分布示意图(下图), 回答下列问题。



(1) 描述图示地区村落分布的特点并说明原因。(5分)

(2) 简述地表形态对图示公路选线的影响。(3分)

(3) 图中①②③④附近的公路段, 在修建过程中哪段要特别做好地质灾害预防工作? 试分析原因。(4分)

蓝田县 2018 ~ 2019 学年度第一学期期末教学检测

高一地理试题参考答案及评分标准

一、单项选择题(本大题共 25 小题,每小题 2 分,计 50 分)

1. B 2. C 3. A 4. D 5. C 6. D 7. B 8. C 9. A 10. D
11. A 12. A 13. D 14. B 15. A 16. C 17. A 18. C 19. B 20. C
21. B 22. D 23. A 24. A 25. B

二、非选择题(本大题共 4 小题,计 50 分)

26. (12 分)(1)莫霍 古登堡(每空 1 分,共 2 分)

(2)地壳 岩石圈 软流层 地幔 外核(每空 1 分,共 5 分)

(3)④(1 分)

(4)纵波的传播速度突降,横波完全消失。(2 分)说明古登堡界面上下两层物质的组成或性质发生了变化。(2 分)

27. (12 分)(1)北(1 分) 地面(1 分) 理由:风向右偏,风向与等压线斜交。(2 分)

(2)低(1 分)

(3)暖 冷 低压槽 北 南(每空 1 分,共 5 分)

(4)A D(每空 1 分,共 2 分,顺序可互换)

28. (14 分)(1)纬度地带 热量 干湿度地带 水分(每空 1 分,共 4 分)

(2)亚热带常绿硬叶林带 温带落叶阔叶林带(每空 1 分,共 2 分)

(3)乙(2 分)

(4)副热带高压带(1 分) 东北信风带(1 分) 沿岸为本格拉寒流,受寒流的降温减湿作用影响(2 分) 深居内陆,远离海洋,水汽难以到达,因而降水少。(2 分)

29. (12 分)(1)特点:村落主要沿河谷分布。(2 分) 原因:图示区域为山区,河谷平原地区地势平坦、水源充足,有利于生产、生活和对外联系。(3 分)

(2)公路沿河谷平原修建,避免跨越河流,降低建设难度和投资,减少工程量。(3 分)

(3)④附近路段。(1 分) 原因:该路段附近等高线密集,山体坡度较大,易发生崩塌、滑坡灾害。(3 分)