

# 天津市部分区 2018~2019 学年度第二学期期末考试 高二地理

**温馨提示：**使用答题卡的区，学生作答时请将答案写在答题卡上；不使用答题卡的区，学生作答时请将答案写在试卷上。

本试卷分为选择题和综合分析题两部分。满分 100 分，考试时间 60 分钟。祝各位考生考试顺利！

得分	
评卷人	

一、选择题（共 25 小题，每小题 2 分，共 50 分）在每小题给出的四个选项中，只有一项是最符合题目要求的。

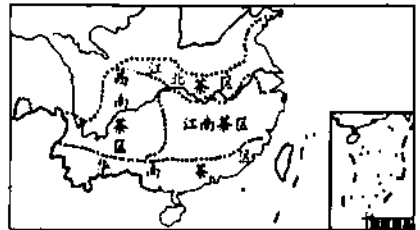
1. 下列关于区域的说法正确的是

- A. “天津市”和“西北地区”都是指某一个特定的区域
- B. 干湿地区属于自然区，联合国属于行政区
- C. 行政区都有明确的边界，而自然区、经济区都没有明确的边界
- D. 网络游戏中的王国可以看做是一个区域

中国是世界上栽培、利用茶树历史最悠久的国家，同时也是世界上茶园面积最多的国家。1982 年，中国农业科学院茶叶研究所根据生态条件、生产历史、茶树类型、品种分布、茶类结构将全国划分出如图所示四大茶区。据此回答 2~3 题。

2. 关于这四大区域的叙述，正确的是

- A. 四大茶区之间的界线是明确的
- B. 四大茶区之间是毫无联系的
- C. 西南茶区内部自然地理特征相对一致
- D. 江南茶区内部自然地理特征差异性突出



3. 下列叙述正确的是

- A. 四大茶区茶叶的采摘时间自北向南逐渐推迟
- B. 江北茶区的存在说明黄土地上茶树也能很好地生长
- C. 华南茶区和江南茶区的分界线某一段为秦岭
- D. 根据茶区的分布可知，茶树生长需要的 1 月均温也可以在 0℃ 以下

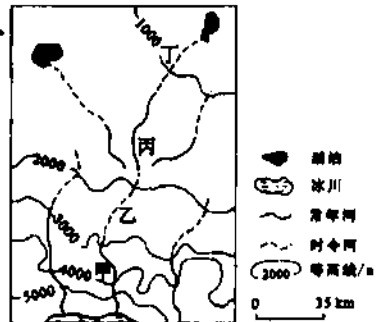
右图示意 39° N 我国西北某区域。读图回答 4~6 题。

4. 限制丙地区农业扩大生产规模的主要因素是

- A. 热量
- B. 坡度
- C. 水源
- D. 土壤

5. 图示区域土壤盐渍化最严重的地区可能是

- A. 甲
- B. 乙
- C. 丙
- D. 丁







18. 关于把握观赏自然美景良机的叙述, 正确的是
- A. 游览海拔较高的风景名山, 选择雨过天晴的时候最佳
  - B. 到黄山、庐山旅游, 秋季的观赏效果最佳
  - C. 观钱塘江大潮的壮观景象, 宜选择阳历 8 月 18 日
  - D. 哈尔滨冬季寒冷夏季凉爽, 所以去哈尔滨旅游夏季效果最佳
- 观察下图中的四种景观, 回答 19~20 题。



①张掖丹霞山



②黄山云海



③海南南天一柱



④岳阳楼

19. 要取得图④中景观的最佳观赏效果, 应遵循的最主要原则是
- A. 选择观赏点位
  - B. 洞悉文化定位
  - C. 了解景观特点
  - D. 把握观赏时机
20. 图中四种景观与主要成因对应正确的是
- A. ①-地壳运动
  - B. ②-风力作用
  - C. ③-流水侵蚀
  - D. ④-发展旅游
21. 下列不属于旅游景区规划基本内容的是
- A. 景区形象
  - B. 服务设施
  - C. 旅游者
  - D. 交通工具
22. 关于游客设计旅游线路的注意事项, 说法正确的是
- A. 应根据放假时间长短, 选择合适的交通方式和食宿条件
  - B. 不能把游览景点安排得太满, 要留出适当机动的时间
  - C. 为了劳逸结合, 尽量多地把不同性质旅游景区串联成环形
  - D. 无需突出主题
23. “十一”假期已成为我国国内旅游的黄金周。某些景区面对急剧增多的游客做出了限制游客人数的规定。其主要目的是
- ①保护景区环境
  - ②限制到达当地的游客数量
  - ③控制当地的交通流量
  - ④保障旅游质量
- A. ①②
  - B. ②④
  - C. ②③
  - D. ①④
24. 下列属于旅游活动直接产生的环境问题是
- A. 台风过后, 海边一些旅游设施遭到破坏
  - B. 许多旅游风景区的著名景物上留有书法家的石刻
  - C. 为修建黄山索道, 砍掉山上林木 48450 立方米
  - D. 为改变“自古华山一条路”, 在峭壁上开辟了复线旅游线路
25. 旅游资源既可以是自然的, 也可以是人文的; 既可以是无形的, 也可以是有形的; 既可以是历史的, 也可以是当代的。这主要体现的旅游资源的特点是
- A. 内容与形式上的多样性
  - B. 空间上的地域性
  - C. 季节上的变化性
  - D. 吸引力的定向性

# 天津市部分区 2018~2019 学年度第二学期期末考试

## 高二地理

题号	一	二			总分
	1-25	26	27	28	
得分					

### 选择题答题表

题号	1	2	3	4	5	6	7	8	9	10	11	12	13	14	15
答案															
题号	16	17	18	19	20	21	22	23	24	25					
答案															

### 二、综合分析题（共 50 分）

得分	
评卷人	

26. 据材料回答下列问题。（14 分）

材料一：天津市蓟州区有盘山、黄崖关长城、梨木台、中上元古界标准地层剖面、八仙山原始次生林自然保护区、独乐寺、白塔寺等旅游资源。其中，盘山被列为国家级风景名胜區，八仙山和中上元古界标准地层剖面分别被列为国家级自然保护区。十里荷海、国色天香牡丹园、程家庄北方江南等平原旅游新项目已初具规模，英国伊甸园生态旅游、华侨城文化旅游、山水文园等正在积极推进。

材料二：2019 年五一小长假，蓟州旅游接待人数和总收入都创历史新高。据统计，5 月 1 日至 4 日蓟州区共接待游客 133.41 万人次，旅游直接收入 1.17 亿元，综合收入 5.85 亿元，其中农家院共接待游客 7.61 万人次，增长 14.1%。游客中有相当一批是农家院的回头客，住农家院、吃农家饭、享受放松的乡野情趣，亦成为假日旅游热点。据蓟州区文化旅游局统计，蓟州星级农家院就有 195 家。

(1) 从旅游资源本身的角度，分析蓟州旅游如此火爆的原因。（6 分）

- (2) 请写出发展农家乐旅游对蓟州农村地区社会和文化的影响。(积极和消极两方面各写 2 条即可, 8 分)

得分	
评卷人	

27. 据图文材料回答下列问题。(14 分)

法国当地时间 2019 年 4 月 15 日晚, 地标性建筑巴黎圣母院突遭大火, 木质屋顶结构及尖塔损毁, 南侧举世闻名的玫瑰花窗尚存, 最珍贵的文物大都安全转移。这座塞纳河畔辉煌雄伟的教堂, 是欧洲历史上第一座完全哥特式的教堂, 开欧洲建筑史先河, 更因法国文学家雨果所著作的同名小说《巴黎圣母院》而闻名世界, 每年吸引数百万游客前来观光。这次大火带来了巨大损失, 但并未造成游客伤亡。为了保障游客安全, 我国很多旅行社第一时间启动应急预案, 调整行程。



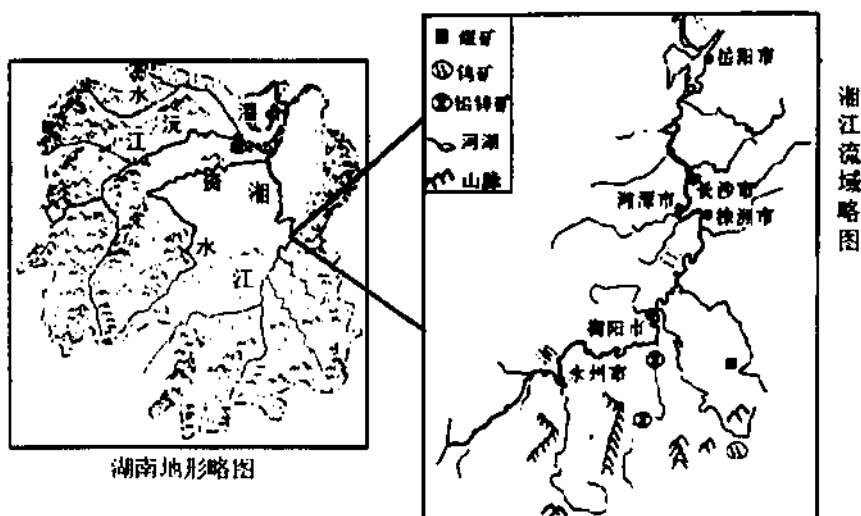
- (1) 在旅游景区的基本组成三要素中, 巴黎圣母院属于\_\_\_\_\_。作为旅游资源, 巴黎圣母院最重要的价值是\_\_\_\_\_。(4 分)
- (2) 巴黎圣母院火灾事件对近期法国巴黎的旅游业有何不利影响? (4 分)

- (3) 尽管没有造成游客伤亡，但巴黎圣母院火灾事件仍为旅游安全问题敲响了警钟，为避免旅游安全事故的发生，各地旅游经营管理部门应采取哪些防范措施？（6分）

得分	
评卷人	

28. 据图文材料回答下列问题。（22分）

湘江发源于广西，主要流经湖南，下图为湖南省地形略图和湘江流域略图。据2010年统计，湘江流域人口占湖南省总人口的57.3%，生产总值占全省的76.7%，是湖南省社会、经济、文化最发达的区域。近年来该流域环境问题不断凸显，可持续发展压力日益增大。



(1) 填写表格。(8分)

区域	湘江流域中上游	
影响	有利影响	不利影响
水电开发	将资源优势转化为经济优势；缓解能源短缺状况； ① _____	开发水电需淹地移民，加剧人地矛盾，资金投入大； ② _____
有色金属冶炼	把资源优势转化为经济优势，带来经济收益； ③ _____	容易引起资源枯竭； ④ _____

(2) 洞庭湖四大支流湘江、资水、沅江、澧水中上游都存在不同程度的水土流失现象，列出其对下游地区的两个不利影响，并针对水土流失问题提出两个解决办法。(8分)

(3) 从自然环境角度写出三个湘江下游通航的优势条件。(6分)



# 天津市部分区 2018~2019 学年度第二学期期末考试

## 高二地理参考答案

### 一、选择题（共 25 小题，每小题 2 分，共 50 分）

题号	1	2	3	4	5	6	7	8	9	10	11	12	13	14	15
答案	A	C	D	C	D	D	D	A	B	C	A	C	B	B	D
题号	16	17	18	19	20	21	22	23	24	25					
答案	C	C	A	B	A	C	B	D	C	A					

### 二、综合分析题（50 分）

#### 26.（14 分）

- (1) 蓟州区旅游资源丰富多样，各具特色；盘山、中上元古界标准地层、独乐寺等旅游资源的知名度高，美学价值、观赏价值、科学价值、历史文化价值高，功能强；多种类型的旅游资源协调组合，形成一定的组合、结构和规模，值得游览。（每条 2 分，共 6 分）
- (2) 积极影响：有助于对外文化交流，促进农村地区社会文明程度的提高；促进蓟州农村卫生条件的改善和基础设施的建设。（4 分）
- 消极影响：可能会带来社会治安隐患；可能会对当地居民健康产生不良影响。（4 分）

#### 27.（14 分）

- (1) 景区吸引物          历史文化价值（4 分）
- (2) 近期旅游业受到“重创”，减少了著名旅游景点，损失了重要的旅游资源，减少游客数量，降低了旅游业的收入。（4 分）
- (3) 增强安全意识；消除不安全因素；控制不安全行为；加强救援，发生意外时为旅游者提供紧急救护和援助。（任选 3 条，共 6 分）

#### 28.（22 分）

- (1) ①利于调整能源消费结构；改善大气质量。
- ②工程建设容易诱发滑坡、泥石流等地质灾害；容易破坏周边生态环境，加剧水土流失。
- ③促进工业化、城市化发展；增加就业岗位。
- ④加重大气、水污染，影响下游水质。（每项任答一条，每条 2 分，共 8 分）
- (2) 不利影响：中上游水土流失造成河流含沙量加大，淤塞下游河道和湖泊，容易加重洪涝灾情；并且影响航运。（2 条，共 4 分）
- 解决办法：中上游退耕还林还草；植树种草，保持水土；调整林种结构，避免单一林种，加大炭薪林和防护林比重；修建水利工程蓄水拦沙等。（任选 2 条，共 4 分）
- (3) 流量大且流量季节变化小；无结冰期可全年通航；水流平稳；河道较宽较深。（任选 3 条，共 6 分）