

2018 届 2017—2018 学年上期期中考试文科综合测试题

考试时间：150 分钟 总分：300 分

第 I 卷

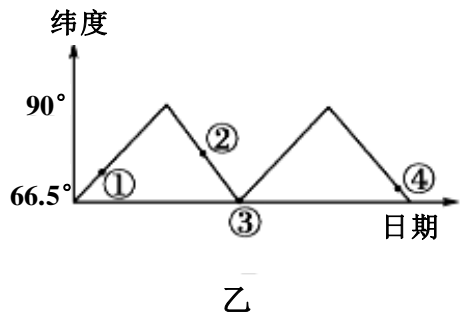
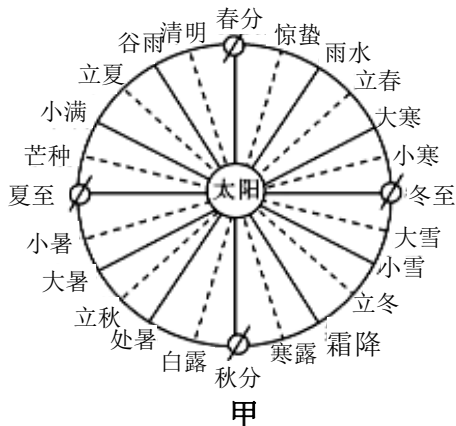
本卷共 35 题，每题 4 分，共 140 分。在每题给出的四个选项中，只有一项是最符合题目要求的。

服务外包指企业将其非核心的业务外包出去，利用外部最优秀的专业团队来承接业务，从而使其专注核心业务的一种管理模式。下表是三个国家发展服务外包产业潜力对比表（数字越大，潜力越大）。读表完成 1~2 题。

因素 \ 国家	甲	爱尔兰	加拿大
语言	4	5	5
政府支持	5	4	3
人力资源	5	3	3
基础设施	2	4	5
教育体系	4	4	5
工资成本	5	3	1

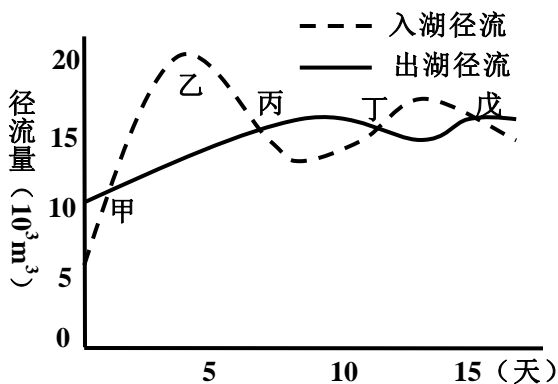
- 关于甲国的说法正确的是
 - 人口增长速度较快
 - 城市化水平高
 - 服务业比重比加拿大高
 - 基础设施完善
- 甲国吸引服务外包产业迁入的最大优势是
 - 消费市场广阔
 - 自然资源丰富
 - 交通便利
 - 劳动力资源丰富廉价

我国古代人民根据日月运行位置和天气及动植物生长等自然现象，把一年平分为二十四等份，这就是二十四节气（如图甲）。二十四节气能反映季节的变化，指导农事活动。图乙是北半球晨昏线与纬线切点的纬度变化示意图。读图完成 3~5 题。



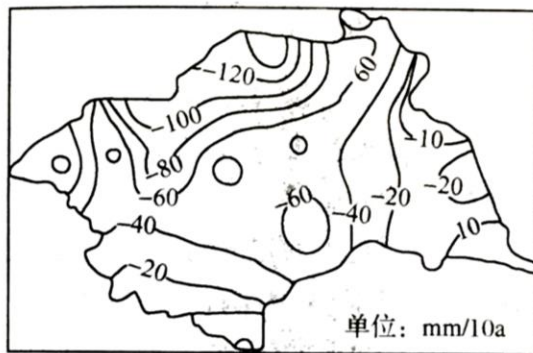
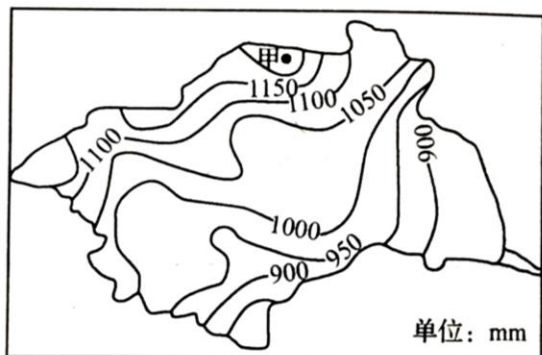
3. 下面的时间段中，太阳直射点在南半球且向北移动的是
- A. 春分→清明 B. 小暑→大暑
C. 霜降→立冬 D. 小寒→大寒
4. 在下列各组节气中，成都的昼长时间最接近的是
- A. 清明、雨水 B. 立冬、立秋
C. 小雪、大寒 D. 雨水、处暑
5. 图乙中四点的日期所处的节气可能正确的是
- A. ①表示大雪 B. ②表示立冬
C. ③表示秋分 D. ④表示小暑

右图为某次长江洪水过程洞庭湖入、出湖径流量的变化曲线图。据此完成6~8题。



6. 长江补给洞庭湖的时段是
- ①甲之前 ②甲到丙
③丙到丁 ④丁到戊
- A. ①② B. ②③
C. ①③ D. ②④
7. 洞庭湖水位开始下降的时段是
- A. 甲→乙 B. 乙→丙
C. 丙→丁 D. 丁→戊
8. 随着长江中上游防护林体系的建设，同样一次洪水过程洞庭湖入湖径流
- A. 高数值减小 B. 高数值增大
C. 总量变大 D. 高数值提前

蒸发皿蒸发量反映陆地蒸发的能力，代表地表的蒸发量；陆面蒸发量是指地面实际蒸发量。一般温度越高、风速越大、湿度越小、太阳辐射越强，蒸发越大。淮河是我国重要的地理分界线。左图为淮河流域年均蒸发皿蒸发量空间分布图。右图为淮河流域1960—2007年蒸发皿蒸发量变化趋势的空间分布图。据此回答9~11题。



9. 甲地陆面蒸发量的值最可能是
- A. 300 B. 600 C. 900 D. 1000

10. 淮河流域蒸发皿蒸发量东南部较小的主要原因是

- A. 地表干旱，太阳辐射弱
- B. 地形平坦，风速小
- C. 降水较多，气温低
- D. 降水较多，湿度大

11. 据图分析，下列说法正确的是

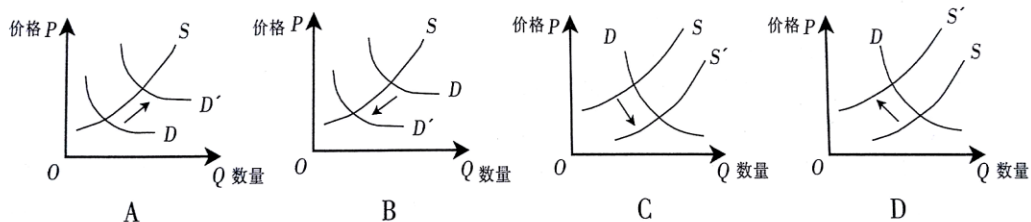
- A. 蒸发皿蒸发量大的区域蒸发量增大的趋势很显著
- B. 淮河上游地区蒸发皿蒸发量减少速率都很大
- C. 流域内蒸发皿蒸发量减少速率最大不超过 160mm/10a
- D. 整个淮河流域蒸发皿蒸发量都呈现减少的趋势

12. 2017 年 10 月 27 日，苹果 iPhoneX 手机开始预售。该款手机配备双面全玻璃设计、抗水防尘、无线充电、人脸识别技术等功能，最低售价 8388 元，顶配版本近万元。面对新款苹果手机，许多消费者充满了矛盾之情：因性能好想入手，又因贵而深感无奈。对此认识正确的是

- ① 优质优价——使用价值越大的商品，其价格就越高
- ② 高档耐用品的需求弹性大——商品价格影响其需求
- ③ 量入为出，理性消费——收入是消费的前提和基础
- ④ 从众心理引发流行趋势——消费心理影响消费行为

- A. ①②
- B. ②③
- C. ①④
- D. ③④

13. 截至 2017 年 7 月底，我国原材料的价格已经连续保持了 3 个月的上涨趋势。业内人士认为，今年在供给侧结构性改革大背景下的环保限产及去产能政策，助推了原材料价格上涨。在其他条件不变的情况下，下列图示（S 为供给曲线，D 为需求曲线）最能反映上述市场供求变化的是



14. 2017 年 8 月，中国联通宣布战略投资者将认购 90 亿股中国联通 A 股股份，百度、阿里巴巴、腾讯、京东将投资中国联通。其中，百度将向联通 A 股投资 70 亿元、京东 50 亿元、阿里巴巴 43.5 亿元、中国人寿 217 亿元、腾讯 110 亿元。这有利于

- ① 实现各种所有制资本融合发展，激发市场主体活力
- ② 巩固和加强国有经济在基本经济制度中的主体地位
- ③ 国有资本放大功能与保值增值，提高竞争力和影响力
- ④ 淡化企业产权归属，维护各种所有制经济的平等地位

- A. ①② B. ①③ C. ②③ D. ②④

15. 下表显示的是中国人民银行发布的《2017年第三季度城镇储户问卷调查》的部分结果。根据表中信息，下列推断合理的是

	占比	环比涨幅
倾向于“更多储蓄”	41.6%	↓1.1%
倾向于“更多消费”	26.4%	↑1.0%
倾向于“更多投资”	32.0%	↑0.2%
注：居民偏爱的前三位投资方式依次为“银行、证券、保险公司理财产品”“基金信托产品”和“股票”		

- ①随着社会保障体系不断健全，储蓄成为居民投资首选
 ②人们对未来预期收入趋向乐观，居民消费意愿在增强
 ③在兼顾收益和风险原则下，居民更偏重投资的收益性
 ④随着资本市场不断完善，居民投资渠道呈多元化趋势

- A. ①② B. ①③ C. ②④ D. ③④

16. 2017年5月11日，上海市人社局发布了本年度各类人群社保缴费比例标准。在确保参保人员社会待遇水平不受影响的前提下，制度性下调城镇职工医疗保险比例、阶段性下调失业保险缴费比例（见下表）。此举旨在

项目	企业缴费比例	
	调整前	调整后
基本医疗保险	10%	9.5%
失业保险	1.0%	0.5%

- A. 降低企业经营成本，激发市场活力 B. 减轻企业税收负担，提高利润水平
 C. 增加企业职工收入，实现共享发展 D. 提高社会保障水平，维护社会稳定

17. 2016年10月，国务院印发《关于激发重点群体活力带动城乡居民增收的实施意见》，对技能人才、新型职业农民、科技人员、小微创业者、企业经营管理人员等增收潜力大、带动能力强的七大群体，推出差别化收入分配激励政策。这有利于

- ①通过财政转移支付，促进再分配更加公平
 ②完善收入分配制度，调动生产要素积极性
 ③完善社会保障体系，保障人们的基本生活
 ④激发社会创造活力，让人们有更多获得感

- A. ①② B. ①③ C. ②③ D. ②④

18. 国务院总理在《政府工作报告》中指出，2017 年我国要继续实施积极的财政政策和稳健的货币政策。据此判断以下传导路径正确的是

- ①增发国债和提高税率→财政收入增加→财政支出增加→经济发展
- ②基本建设支出增加→生产规模扩大→投资需求增加→经济发展
- ③转移性支付增长→居民收入增加→消费能力增强→生活质量提高
- ④存贷款基准利率上调→融资成本降低→经济增长→就业规模扩大

- A. ①② B. ①④ C. ②③ D. ③④

19. GDP 可以衡量一国的经济发展水平，但人们也发现传统 GDP 统计方式有一些不足，认为应从现行统计的 GDP 中，扣除由于环境污染、自然资源退化、教育低下、人口数量失控、管理不善等因素引起的经济损失成本，从而得出真实的国民财富总量。下列情况中反映了传统的 GDP 统计方式不足的是

- A. 由于新技术的应用，企业效益大幅增长
- B. 雾霾天气增多，导致人们洗车次数增加
- C. 小张自己重新粉刷家中墙壁并加以装饰
- D. 旅游产业发展，民众休闲选择日趋多样

20. 2016 年 9 月，国家发改委发布《用能权有偿使用和交易制度试点方案》，要求浙江、福建、河南、四川等试点地区在能源消费总量控制目标的“天花板”下，合理确定用能单位初始用能权。配额内的用能权以免费为主，超限额用能有偿使用。允许企业对依法取得的用能配额进行交易，限额内有多余的可以卖，缺的可以买。这一举措旨在

- ①逐步淘汰传统能源产业，优化我国能源供给结构
- ②推动企业技术改造升级，促进能源节约和环境保护
- ③完善生态文明机制，通过行政手段来推动绿色发展
- ④运用市场化手段，推动能源要素更高效配置和利用

- A. ①② B. ①③ C. ②④ D. ③④

21. 2017 年 1 月 17 日，习近平在达沃斯世界经济论坛上提到：“世界经济的大海，你要还是不要，都在那儿，是回避不了的。想人为切断各国经济的资金流、技术流、产品流、产业流、人员流，让世界经济的大海退回到一个一个孤立的小湖泊、小河流，是不可能的，也是不符合历史潮流的。”这段话强调，经济全球化

- A. 符合了世界经济的发展规律，趋势不可逆转
- B. 实现了资源在全球范围内的流动和高效配置
- C. 加强了各国联系，为世界经济增长提供了强劲动力
- D. 加剧了全球经济的不稳定性，威胁了世界经济安全

22. 近年来，山东青岛市企业跨国并购日益活跃。2016 年，海尔集团以 56 亿美元成功并购美国通用 GE 公司家电业务，海信集团以 2300 万美元成功并购日本夏普墨西哥工厂以及美洲销售渠道业务，青岛万达以 28 亿美元成功并购美国传奇影业。这种大规模的跨国并购意在

- ①拓展经济发展空间，提高资源配置效率
- ②提升国际化经营水平，增强企业竞争力
- ③优化进出口结构，培育经济发展新优势
- ④创新利用外资方式，优化利用外资结构

A. ①② B. ②③ C. ①④ D. ③④

23. 2017 年 5 月 5 日，我国具有完全自主知识产权、首款按照最新国际适航标准研制的干线民用飞机 C919 首飞成功，并已获得来自全球的 570 架订单。国内 22 个省市 200 多家企业、36 所高校参与设计研发；同时，有 16 家外资、合资公司参与提供零部件。中国大飞机制造走过了一条引进、吸收、消化、创新的艰辛历程。C919 的研发表明

- A. 中国企业“走出去”已经拥有较多的技术优势
- B. 引资引技引智依然是中国技术创新的根本途径
- C. 战略性新兴产业的迅速发展离不开政府的主导作用
- D. 创新驱动发展需要自主创新与技术引进相结合

24. 考古资料表明，西周至春秋早期，各诸侯国甚至是一些相距遥远诸侯国的青铜等器物，在形制、纹饰和工艺上都与周王朝表现出很强的一致性。此现象说明

- A. 手工业实现了器物标准化生产
- B. 周王以赏赐青铜器物笼络诸侯
- C. 宗法制确保同族文化的延承性
- D. 分封制推动了中原文化的传播

25. 西周通过分封制，加强了周天子对地方的统治。但秦朝建立后，面对空前扩大的统治区域，却采用了郡县制。其进步性主要体现在

- A. 行政区域划分的变化
- B. 促进了封建经济的发展
- C. 官员任用原则的变化
- D. 保证了专制皇权的强化

26. 以下为汉代各农耕区的劳动生产率比较表

农耕区域	年人均耕田数	平均亩产量	粮食总收入量
南方农耕区	23 小亩	1.37 石	32 石
中原农耕区	30 小亩	1.5 石	45 石
西北屯垦区	74 小亩	0.4 石	29 石

此表可以用来说明当时

- A. 人多地少制约南方经济发展
- B. 西北与南方生产力水平相近
- C. 中原地区精耕细作技术领先
- D. 地理环境决定农业生产水平

27. 先秦时期，墨家学派与儒家学派并称“显学”。秦汉之际，墨家急趋衰微，最终于西汉中期淡出历史舞台。墨家学派淡出历史舞台最有可能是因为

- A. 主流意识形态的确立
- B. 墨家学派背离了传统思想

3.2%的学习文科，1.7%的学习文化艺术，1.6%的学习财经。这是我国当时

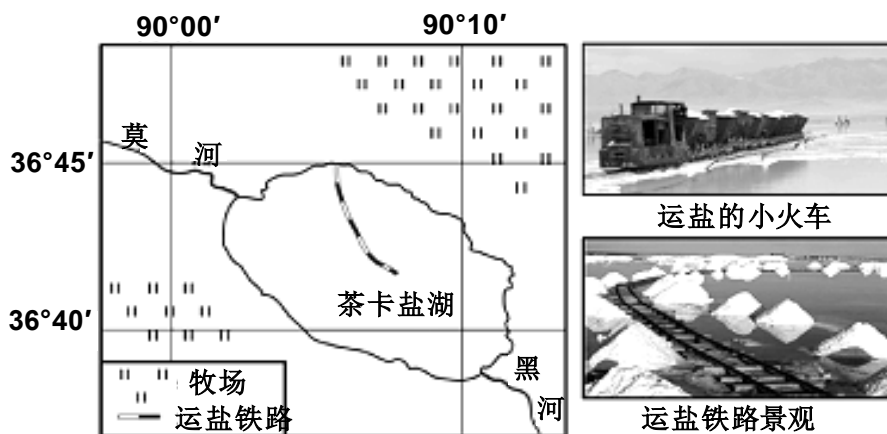
- A. “科教兴国”战略的需要
- B. 市场经济体制的需要
- C. 文化教育全面改革的需要
- D. 国家发展战略的需要

第 II 卷

本卷包括必考题和选考题两部分。第 36~42 题为必考题，每个试题考生都必须作答。第 43~46 题为选考题，考生根据要求作答。

36. (24 分) 阅读图文材料，完成下列要求。

柴达木盆地原为古海洋的一部分，位于柴达木盆地东缘低洼地带的茶卡盐湖，面积 105km²，天然结晶的湖盐储量丰富，形成深厚且坚硬的盐壳，盐壳以上平均水深约 0.2m。历史上湖区运输湖盐主要采用铁路运输（下图），1989 年开掘运盐航道后，水运取代了铁路运输。近几十年来，茶卡盐湖的旅游业和周边地区的畜牧业发展迅速。



(1) 推断茶卡盐湖湖盐的形成过程。(8 分)

(2) 盐湖边缘的湖盐杂质含量较高，给湖盐加工带来一定困难。说明湖盐中杂质的主要来源。(6 分)

(3) 分析茶卡盐湖的盐壳对修建运盐铁路的影响。(6 分)

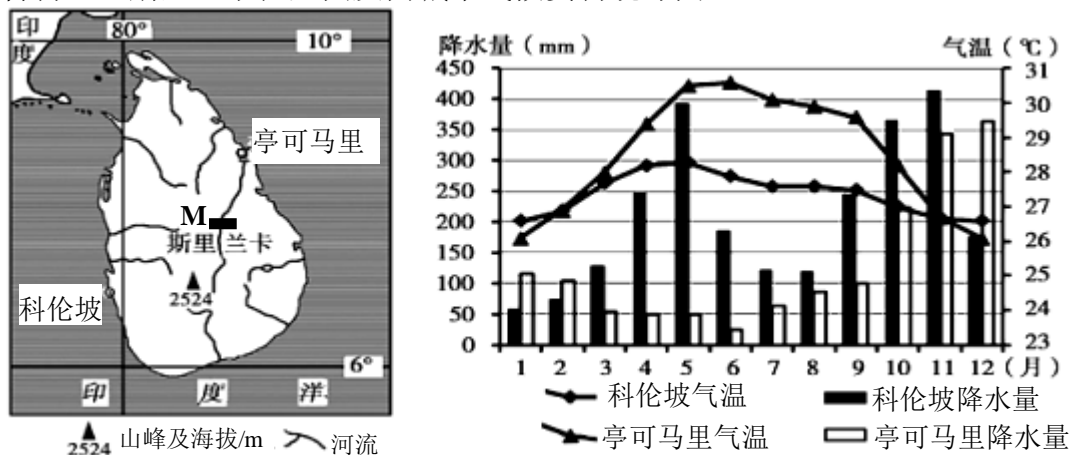
(4) 1989 年后铁路不再运盐，当时有人提出拆除湖区铁路。你是否赞同，请表明态度并说明理由。(4 分)

37. (22 分) 阅读材料，回答问题。

材料一：“一带一路”是“丝绸之路经济带”和“21 世纪海上丝绸之路”

的简称。斯里兰卡是北印度洋上的岛国，将在海上丝绸之路战略中发挥重要的作用。中国持续不断的投资斯里兰卡科伦坡港口城建设，将使两国百姓受益。材料二：斯里兰卡中部是该国重要的农业种植区，但由于技术落后，基本上处于靠天吃饭的原始农业状态。由我国某集团承建的 M 坝工程是斯里兰卡有史以来最大规模的水利枢纽工程，于 2017 年 1 月建成投入使用。

材料三：斯里兰卡位置图及两城市气候资料统计图。



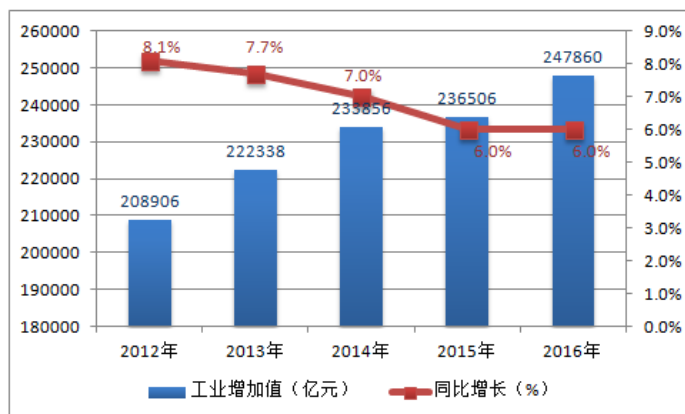
(1) 与科伦坡相比，亭可马里的气温特点有何不同？请分析原因。(6分)

(2) “一带一路”建设对沿线国家都是互利双赢。分析我国投资斯里兰卡科伦坡港口城建设对两国经济发展的重要意义。(8分)

(3) 推测 M 坝工程发挥作用后，将对周围农业区的作物熟制产生怎样的影响？分析其原因。(8分)

38. 阅读材料，完成下列要求。

材料一 2012—2016 年全部工业增加值及其增速



注：2016年我国高技术制造业增加值增长10.8%，占规模以上工业增加值的比重为12.4%；六大高耗能行业增加值增长5.2%，占规模以上工业增加值的比重为28.1%。

材料二 制造业是实体经济的主战场，中国制造业主要面临三个困境，分别是企业生产固定资产投资不足、工业产品仍处于产业链低端和产能过剩持续影响生产。《中国制造2025》提出，要坚持创新驱动的基本方针。实体产业如果能导入人工智能，将“制造技术、自动化技术和信息化技术”三者融合，形成以“机器自主者”为核心的智能制造，就能实现实体经济转型升级。

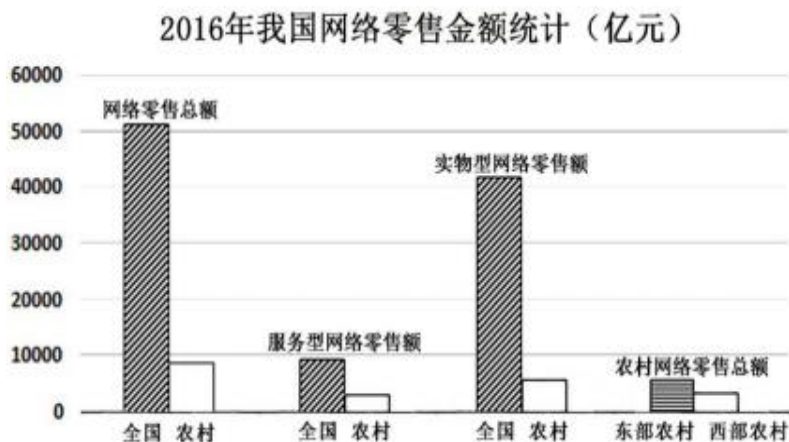
概括材料一所反映的经济信息，并依据材料二分析将人工智能导入实体产业对企业发展的意义。（14分）

39. 阅读材料，完成下列要求。

垄断行业是指因存在资源稀缺性、规模经济效益而由一个或少数企业经营的自然垄断和重要公用事业、公益性服务行业，这些行业与国计民生密切相关。当前，我国垄断行业成本监审制度不够完善，经营成本不够透明，价格形成不够合理的现象还比较突出。对此，2017年9月，国家发改委印发《关于进一步加强垄断行业价格监管的指导意见》，首次对垄断行业科学定价实行顶层设计和系统谋划，明确以成本监审为基础，以科学定价机制为支柱，建立健全以“准许成本+合理收益”为核心、约束与激励相结合的垄断行业定价制度，以此促进垄断行业健康可持续发展。

根据材料，运用经济生活知识，说明我国建立健全垄断行业定价制度的合理性。（12分）

40. 阅读材料，完成下列要求。



注：2016年，全国网络零售额比上年增长26.2%，农村网络零售额季度环比增速均高于城市，中西

部地区农村网络零售额平均季度增幅达 16.6%，高出东部地区 3.2 个百分点。

2017 年以来，商务部会同相关部门加快推进电子商务进农村综合示范工作。商务部将继续加强农村电子商务对农村经济的带动作用，完善政策、强化服务，支持各类社会资本参与涉农电商平台建设，促进线下产业发展平台和线上电商交易平台结合，推动优势特色农产品、绿色食品、乡村旅游服务等电商化，让亿万农民通过“触网”走上致富之路。

概括我国农村网络零售的现状，并结合经济生活知识为我国农村电子商务的发展提出建议。（14 分）

41. 阅读材料，完成下列要求。

2017 年《政府工作报告》强调，坚持住房的居住属性，落实地方政府主体责任，加快建立和完善促进房地产市场平稳健康发展的长效机制。面对房价过快上涨压力，H 市召开紧急发布会，发布与住房限购有关政策：

(1)加大土地供应，年内再供应 5000 亩，年度超万亩。

(2)限购！市区本地人限购 2 套；外地人购房需要 1 年个税社保或纳税。

(3)最低首付 30%。一次购房记录的已结清最低首付 40%；一次购房未结清首付最低 50%。

(4)从严控制公积金贷款，停止三套房贷款。停止异地公积金贷款。

(5)公安工商严厉打击捆绑销售，禁止捆绑销售，加大曝光力度，禁止额外加价。

结合材料，从经济学角度分析 H 市是如何运用“组合拳”为房价降温的。（12 分）

42.（25 分）阅读材料，完成下列要求。

材料一 周王朝就有了“君权神授”及“普天之下，莫非王土；率土之滨，莫非王臣”的理论。依照这个理论，中国古代君王建立起以宗法制度为纽带的分封制度……从西汉至清代的各朝帝王，都没有摒弃分封诸侯、屏护中央、面南为天下共主的传统观念。由于汉民族长期保持很高的经济社会发展水平，于是不断增强了自我优越、惟我独尊意识，并产生了华夷观念，把周边民族或国家都视为落后的蛮夷。对待周边蛮夷国家，中国除要用强大实力使之“畏威”之外，更应以“德惠”使四夷倾心内服。《礼记·中庸》主张对诸侯和更远方的国家采用“怀柔”政策包括“厚往而薄来”的恩惠大度方针。按照儒家学说，中国君主与其它各国君主的关系，只能是天子与诸侯的君臣关系，外国来使均为朝贡者，故没有形成平等国家间的外交理念和外交礼仪。因此，古代中国统治者认为自己不需要外交，无需常设的外交机构，只是由礼部和理藩院分别办理海道和陆路往来的各国事务。

——摘编自《中国外交从宗藩体制向近代体制的转型》

(1) 据材料一并结合所学知识，概括我国古代外交体制的特点。(12分)

材料二 中国外交，经历了从传统的“华夷秩序”体系向近代西方“条约体系”逐步转型的过程。这一过程可大致分为四个阶段：晚清“总理各国事务衙门”的设立，是对处理日益增多的“洋务”的一种被动应对，也是对建立近代外交体制的初步探索；清末“外务部”的产生，既顺应了西方列强瓜分中国的需要，又为清王朝维持国家主权与独立形态提供了重要工具；民国北京政府外交部的成立，从形式上改变了国家外交机构，满足了中国外交近代化的形式需求……抗战爆发后，特别是1941年太平洋战争的爆发，为中国最终废除不平等条约、平等参与国际事务，提供了历史机遇。中国政府积极推行“抗日外交”，全面调整外交机构，优化结构布局，……把外交作为国家战略的头等大事，积极参与国际“首脑外交”。

——摘编自《中国外交从宗藩体制向近代体制的转型》

(2) 据材料二并结合所学知识，概括近代中国外交体制发生的变化并予以评价。(13分)

43. (12分) 阅读材料，完成下列要求。

材料 现代中国出国留学情况一览表

时期	目的地(国家和地区)	留学人数	费用来源
新中国成立——“文化大革命”前	苏联东欧等29个国家和地区	约10000余人	公费为主
“文化大革命”时期	49个国家和地区	约1600余人	公费为主
改革开放以来	103个国家和地区	约300多万人	自费为主

——据《略论近现代中国留学史的分期和中国留学生的时代使命》

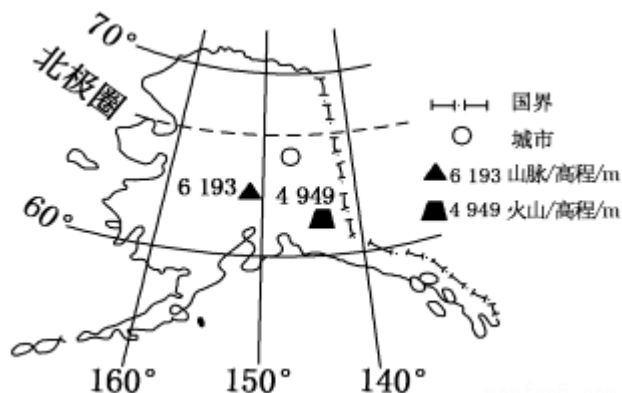
表格能够反映现代中国留学变化的多个特点，指出其中一个特点并说明其历史原因。(要求：阐述须有史实依据)

请考生从第44、45两道地理题中任选一题做答，请用2B铅笔在答题卡上将所选题目题号方框涂黑；多涂、多答，按所涂的首题进行评分；不涂，按本选考题的首题进行评分。

44. (10分) 旅游地理

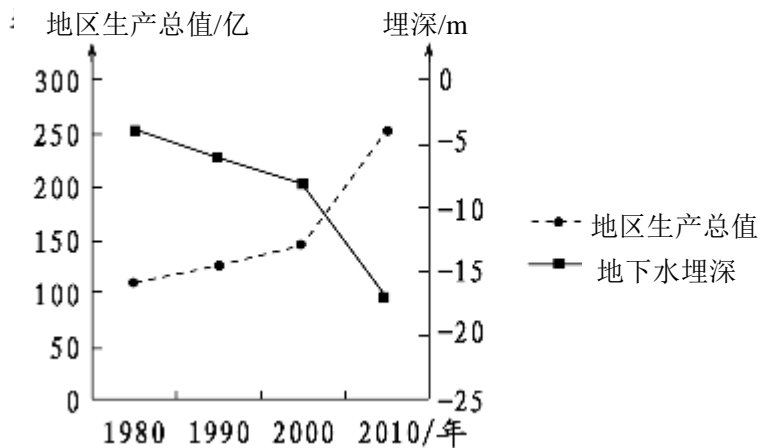
右图示意某旅游目的地，该地旅游资源丰富，但旅游规模相对较小。

分析该地旅游规模相对较小的原因。



45. (10分) 环境保护

读右图,分析该区域生态环境恶化的原因,并提出此类地区遏制生态环境恶化的主要措施。



请考生在第 46、47 道历史题中任选一题作答,如果多做,则按所做的第一题计分。作答时,请用 2B 铅笔在答题卡上将所选题目题号方框涂黑。

46. 【历史——选修 1: 历史上重大改革回眸】(15 分)

材料 传统社会,婚姻以“事宗庙、继后世”为目的。其仪式,通行六礼。宋以后虽有简化,基本上仍遵循凭媒定娶、尊长主婚、订立婚书或收受聘财之习俗。民间婚姻习俗乃百姓私事,只要不因纠纷告上衙门,多与官府无涉。清末新政时期,四川等省份出于改变婚姻陋习,增加新政经费诸考虑,下令废止民间自拟庚帖,改为购买官方统一印制的婚书。四川省拟定大量白话文告示,广为宣传的同时,赶印了 5 万份婚书,要求各地三个月内售清。这次改革是政府试图以法律形式规范民间婚姻的尝试,由于民间婚俗根深蒂固,官制婚书费用较高等原因,实际效果非常有限。

——摘编自吴佩林《清末新政时期官制婚书之推行》

(1) 根据材料并结合所学知识,概括清末新政时期官制婚书推行的背景。(6 分)

(2) 根据材料并结合所学知识,分析清末新政时期官制婚书推行的影响。(9 分)

47. 【历史——选修 4: 中外历史人物评说】(15 分)

材料 班超(32—102),字仲升,扶风平陵(今陕西咸阳)人。东汉名将、外交家。父亲班彪,哥哥班固。他自幼博览群书,能说善辩,胸怀大志。公元 62 年,汉明帝任命班固为校书郎,班超随哥哥迁入洛阳,跟着哥哥帮官府做一些文书抄写和资料整理工作。他听到匈奴不断侵扰边疆,掠夺居民和牲口,就扔了笔,叹息着说:“大丈夫应当像张骞那样到塞外去立功封侯,怎么能老死在书房里呢?”公元 73 年,大将军窦固出兵攻打匈奴。为了实现自己报国的志向,班超到他手下担任了代理司马(参谋),这成为班超文墨生涯转向军旅生活的第一步。窦固为了更好地抵抗匈奴,想采用汉武帝时的办法,派人联络西域各国来共同对付匈奴。因为班超的才干,他被派为使者前往西域。他设计攻杀

了匈奴派驻在鄯善、于阗的使者，废去龟兹派遣的疏勒王。在东汉政府的援助下，联合当地力量，先后击败莎车、龟兹等地的贵族叛乱，并击退月氏的入侵。公元91年，班超任西域都护，封定远侯。

——摘编自孙丰年《榜评历史魅力人物》

- (1) 根据材料指出班超投笔从戎的原因。(8分)

- (2) 根据材料和所学知识，分析班超出使西域的意义。(7分)

地理参考答案

1-5 ADDCB 6-10 DCABD 11 C

36. (1) 茶卡盐湖原为古海洋;(1分)经地壳运动隆起抬升成高盐度的内陆湖;(2分)随后,气候变干,蒸发旺盛,(2分)周边径流汇入少,水量减少,湖水盐度不断上升(或湖水含盐量过饱和),(2分)盐类物质结晶析出(或多余的盐分沉积)。(1分)

(2) 深居内陆,大陆性强,盐湖周边多风化碎屑物(或气候干旱,多风沙);(2分)过度放牧,草地退化,多裸露的沙土;(2分)周边生产生活产生的废弃物。(2分)

(3) 有利:盐壳表层积水浅,利于铺设铁轨;(2分)盐壳厚且坚硬,铁轨不易塌陷;(2分)

不利:湖盐对铁路设备腐蚀性强,技术要求高。(2分)

(4) 赞同。铁路的运盐功能已经丧失(或运盐改为船运),(2分)铁路运输及废弃的铁路设备破坏湖区自然景观,污染环境。(2分)

不赞同。拆除铁路,恢复原有环境的成本较高(或拆除铁路成本较高);(2分)铁路可作为客运专线方便游客进入湖区观赏,发展盐湖特色旅游(或铁路可作为旅游景观)。(2分)

37. (1) 亨可马里在北半球冬季气温略低,北半球夏季气温较高,气温年较差大。(2分) 成因:北半球冬季,亨可马里受东北季风影响,降水较多,气温略低(2分);北半球夏季,亨可马里位于西南季风的背风坡,降水少,晴天多,(且太阳高度略大,)气温更高。(2分)

(2) 对改善斯里兰卡基础设施建设、扩大就业、推动经济发展有重要作用;(答对两点给4分)我国投资该港口建设,一是有利于我国资本和产能过剩产业的海外转移;二是保障我国能源海上运输安全,且可以缩短运输里程;三是有利于我国与欧洲、西亚等商业贸易往来。(答对两点给4分)

(3) (该工程发挥作用后)周围农业区农作物可以一年三熟(或多熟)(2分) 原因:该地热量条件可以满足农作物一年三熟(或多熟)(2分)。但(由于降水季节分配不均)旱季降水不能满足作物生长需求,导致作物只能雨季生长,熟制受到限制(2分)。该工程改善了农业灌溉条件(调整了降水的季节分配),旱季农作物可以生长(2分)。

44. (旅游地理)纬度高,气温低(气候寒冷),适宜旅游的时间短;(2分)远离客源地;(2分)交通不便;(2分)高昂的交通和装备费用,使得旅游费用较高;(2分)生态环境脆弱,旅游环境容量相对较小。(2分)

45. (环境保护)原因:经济增长严重依赖(地下)水资源(2分),地下水水位下降导致生态环境恶化。(2分)

主要措施:节约用水(提高水资源的利用率);(2分)发展节水型经济(调整产业结构);(2分)跨流域调水,增加水资源供给。(2分)(其他合理答案可酌情评分,但本题部分总分不超过6分)

12--23 BDBCA DCBCA AD

38. 经济信息：2012—2016年，我国工业增加值持续增长，增速却呈下降趋势。（2分）2016年高技术制造业增加值增长较快，但占比较低；（1分）六大高耗能行业仍占据较大比重。（1分）我国仍需加快制造业转型升级步伐。（1分）

意义：①有利于企业改进技术，提高生产效率，降低生产成本，提高经济效益。（3分）②有利于企业增强创新能力，改善经营管理，提高产品和服务质量，形成品牌优势，增强市场竞争力。（3分）③有利于促进企业转型升级，开发新产品，拓展市场空间，增强核心竞争力和持续盈利能力。（3分）（考生如有其他答案，言之有理亦可酌情给分）

39. ①价值决定价格，商品合理的价格必须充分体现其生产成本，垄断行业定价制度以成本监审为基础，是尊重价值规律的表现。（4分）②在立足成本基础上重视企业合理收益、约束与激励相结合的定价机制，既维护了公众对垄断行业产品的消费利益，也有利于调动企业的积极性，为社会提供更多更好的产品。（4分）③垄断行业定价制度既坚持了市场的基础地位，又加强了政府价格监管，正确处理了政府与市场的关系，有利于垄断行业健康可持续发展。（4分）

40. 现状：我国农村网络零售发展迅速（且发展潜力巨大），与城市网络零售额差距在缩小，但在全国网络零售总额中所占比重仍然较低、东西部发展不平衡。（4分）

措施：①国家加强宏观调控，制定完善农村电商发展战略规划，加强农村电商基础设施建设，完善市场监管，为农村电商发展创造良好市场环境。（3分）②发挥市场对资源配置的决定性作用，调动各类社会资本参与涉农电商平台建设，鼓励和支持网络零售商以及相关企业向农村，尤其是西部农村开拓业务和市场。（3分）③完善财政支农政策，加快农业科技创新和优势特色产业的建设，改善农产品供应结构和品质。（2分）④引导农民改变传统观念，提升技能，利用网络销售平台搭建产销互通链，将农产品推向国内及国际市场。（2分）

41. ①加大住房土地供应，从供给侧缓解商品房供求矛盾，抑制房价过快上涨。（3分）②通过限购等行政手段，调节投资投机性购房需求。（3分）③实施差别化信贷等货币政策，合理引导居民住房需求。（3分）④规范房地产企业及从业人员的经营行为，打击哄抬房价等违法行为。（3分）

历史参考答案

24. D 25. C 26. C 27. A 28. B 29. C 30. A 31. D 32. D 33. B 34. C 35. D

42. (1) 中国：以儒家思想为外交的基本原则（没有正式的外交观念）；文武并用，以和平友好交往为主；厚往薄来，形成朝贡体制，确立君臣关系；缺乏正式的外交机构。（12分）

(2) 变化：建立起正式的外交机构，形成近代外交体制；从被动到主动，逐步改变外交态度；积极参与国际事务，改善中国国际环境。（6分）

评价：打破“华夷观念”，接受西方思想观念，增进对世界的认识 and 了解；推动中国外交的近代化，使中国逐渐融入世界；中国有识之士的努力，一定程度提升我国国际地位；但始终没有改变中国半殖民地半封建社会的处境。（7分，最后一点必答，注意辩证分析）

43. 示例：特点：改革开放以来，出国留学人数大幅度增加。（3分）

原因：国家实行改革开放政策；社会主义现代化建设取得重大成就，人民收入大幅度增加；人民生活水平提高，更加重视教育的投入；全球化的推动。（9分）

（还可以从以下角度归纳特点：留学目的地由少到多；建国初期留学目的以社会主义阵营国家为主；改革开放以来以自费留学为主。其他言之有理皆可）

46. (1) 背景：民间传统婚俗根深蒂固；政府对民间婚姻缺乏有限管理；政府财政紧张；清末新政时期对西方管理制度的借鉴。（6分，任答3点即可）

(2) 影响：一定程度缓解清政府的财政困难；便于清政府加强对社会的控制；有利于民间婚俗观念的转变；有利于中国婚姻制度近代化转型；以敛财为目的的改革进一步暴露了清政府的腐败。（9分，任答3点即可）

47. (1) 原因：匈奴不断侵扰东汉边疆，给人们的生产生活带来威胁；班超博览群书，胸怀大志；窦固出兵攻打匈奴为其从军创造契机；张骞出使西域对他影响至深。（8分）

(2) 意义：击败了西域一些地方的叛乱，巩固了汉政府对西域的统治，保护了西域各族人民的安全，促进了民族融合和统一的多民族国家发展。（7分）