

## 2018—2019 学年度上学期高一模块考试

## 数学试题

2018.11

本试卷分第 I 卷和第 II 卷两部分, 共四页, 满分 150 分. 考试用时 120 分钟, 考试结束后, 将本试卷和答题卡一并交回.

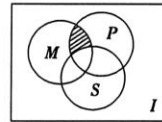
## 注意事项:

1. 答题前, 考生务必用 0.5 毫米黑色签字笔将自己的姓名、座号、考生号、县区和科类填写在答题卡上和试卷规定的位置上, 并认真核准条形码上的姓名、座号和准考证号.
2. 第 I 卷每小题选出答案后, 用 2B 铅笔把答题卡上对应题目的标号涂黑; 如需改动, 用橡皮擦干净后, 再选涂其它答案标号. 答案写在试卷上无效.
3. 第 II 卷必须用 0.5 毫米黑色签字笔作答, 答案必须写在答题卡各题目指定区域内相应的位置, 不能写在试卷上; 如需改动, 先划掉原来的答案, 然后再写上新的答案; 不能使用涂改液、胶带纸、修正带. 不按以上要求作答的答案无效.
4. 填空题请直接填写答案, 解答题应写出文字说明、证明过程或演算步骤.

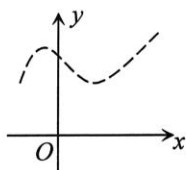
## 第 I 卷 (共 60 分)

一、选择题: 本大题共 12 小题, 每小题 5 分, 共 60 分. 在每小题给出的四个选项中, 有且只有一项是符合题意要求的.

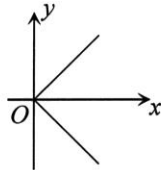
1. 表示方程  $x^2 - 5x + 4 = 0$  的解的集合不正确的是  
A.  $\{x | x^2 - 5x + 4 = 0\}$  B.  $\{x | x = 1 \text{ 或 } x = 4\}$  C.  $\{1, 4\}$  D.  $\{(1, 4)\}$
2. 如图,  $I$  是全集,  $M, P, S$  是  $I$  的子集, 则阴影部分所表示的集合是  
A.  $(M \cap P) \cap S$  B.  $(M \cap P) \cup S$   
C.  $(M \cap P) \cap (\complement_I S)$  D.  $(M \cap P) \cup (\complement_I S)$



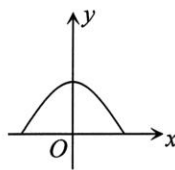
3. 下列四个图象中, 是函数图象的为



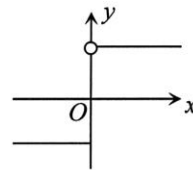
(1)



(2)



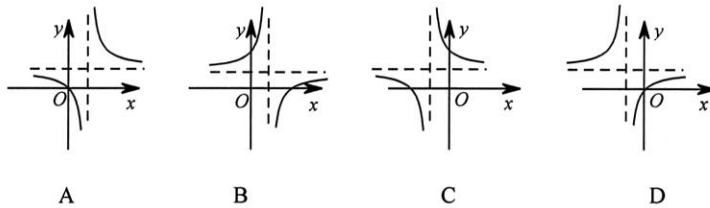
(3)



(4)

- A. (3) (4) B. (1) C. (1) (2) (3) D. (1) (3) (4)
4. 下列各组函数中, 表示同一函数的是  
A.  $y = x$  与  $y = \sqrt[3]{x^3}$  B.  $y = x^2$  与  $y = \frac{x^3}{x}$   
C.  $y = 1$  与  $y = (x-1)^0$  D.  $y = |x|$  与  $y = (\sqrt{x})^2$
  5. 已知函数  $f(x) = \begin{cases} x^2 - 2x, & x \geq 2 \\ 2x + 1, & x < 2 \end{cases}$ , 则  $f[f(1)]$  等于  
A. 2 B. 3 C. 4 D. 5

6. 设函数  $y = 2x^3$  与  $y = \left(\frac{1}{2}\right)^{x-1} + 2$  的图象的交点为  $(x_0, y_0)$ , 则  $x_0$  所在的区间是  
 A.  $(-1, 0)$       B.  $(0, 1)$       C.  $(1, 2)$       D.  $(2, 3)$
7. 已知函数  $y = \log_a(x+1) + 3 + x$  ( $a > 0$  且  $a \neq 1$ ) 的图象恒过定点  $A$ , 若点  $A$  也在函数  $f(x) = 2^x + b$  的图象上, 则  $b =$   
 A. 0      B. 1      C. 2      D. 3
8. 函数  $f(x) = \frac{x-2}{x-1}$  的图象是



9. 已知  $a = 0.9^3, b = \log_3^{0.9}, c = 3^{0.9}$ , 则  $a, b, c$  的大小关系是  
 A.  $b < a < c$       B.  $a < c < b$       C.  $a < b < c$       D.  $b < c < a$
10. 已知函数  $f(x)$  是定义在  $\mathbf{R}$  上的偶函数, 且在  $(-\infty, 0]$  上是减函数, 若  $f(2x-1) < f(-1)$ , 则实数  $x$  的取值范围是  
 A.  $(0, 1)$       B.  $(0, +\infty)$       C.  $(-\infty, 1)$       D.  $(-\infty, 0) \cup (1, +\infty)$
11. 定义  $\max\{a, b, c\}$  为  $a, b, c$  中的最大值, 设  $M = \max\{3^x, x-4, 5-2x\}$ , 则  $M$  的最小值是  
 A. 2      B. 3      C. 4      D. 6
12. 已知  $f(x)$  在定义域  $(0, +\infty)$  内为单调函数且对定义域内任意实数  $x$  都有  $f\left(f(x) - \frac{2}{3^x+1}\right) = \frac{3}{2}$ , 则  $f(\log_3 5) =$   
 A. 0      B.  $\frac{1}{2}$       C.  $\frac{2}{3}$       D.  $\frac{4}{3}$

## 第 II 卷 (共 90 分)

二、填空题: 本大题共 4 小题, 每小题 5 分, 共 20 分.

13. 若函数  $f(x) = 2ax + 2 - a$  的零点是 1, 则  $a =$  \_\_\_\_\_.
14. 函数  $f(x) = \sqrt{1 - \frac{1}{3^{x-1}}}$  的定义域为 \_\_\_\_\_.
15. 已知函数  $y = \sqrt{x} - \sqrt{2-x}$  的值域为集合  $A$ , 集合  $B = \{x | 2^{1-x} + a \leq 0\}$ , 若  $A \subseteq B$ , 则实数  $a$  的取值范围是 \_\_\_\_\_.

16. 函数  $f(x)$  的定义域为  $A$ , 若  $x_1, x_2 \in A$  且  $f(x_1) = f(x_2)$  时总有  $x_1 = x_2$ , 则称  $f(x)$  为单函数. 例如: 函数  $f(x) = 2x + 1 (x \in \mathbf{R})$  是单函数. 下列命题:

- ① 函数  $f(x) = x^3 - 1 (x \in \mathbf{R})$  是单函数;
- ② 函数  $f(x) = x^2 (x \in \mathbf{R})$  是单函数;
- ③ 若  $f(x)$  为单函数,  $x_1, x_2 \in A$  且  $x_1 \neq x_2$ , 则  $f(x_1) \neq f(x_2)$ ;
- ④ 在定义域上具有单调性的函数一定是单函数.

其中的真命题是\_\_\_\_\_ . (写出所有真命题的序号)

三、解答题: 本大题共 6 小题, 共 70 分, 解答应写出文字说明, 证明过程或演算步骤.

17. (本小题满分 10 分)

(1) 化简:  $\frac{m + m^{-1} - 2}{m^{\frac{1}{2}} - m^{-\frac{1}{2}}}$ ;

(2) 计算:  $2^{-\log_2 4} - (2\frac{1}{4})^{\frac{1}{2}} + (\sqrt{2} - 1)^{|1|} + (\lg 5)^2 + \lg 2 \cdot \lg 50$  .

18. (本小题满分 12 分)

已知全集  $U = \mathbf{R}$ , 集合  $A = \{x | 2^x \leq 4\}$ ,  $f(x) = \frac{\sqrt{4-x}}{\sqrt{\lg x}}$  的定义域为集合  $B$

(1) 求  $A \cap (\complement_U B)$ ;

(2) 若集合  $C = \{x | 4 - a < x < a\}$ , 且  $B \cap C = C$ , 求实数  $a$  的取值范围.

19. (本小题满分 12 分)

已知二次函数  $f(x) = ax^2 + bx + c$ , 满足条件  $f(0) = 0$  和  $f(x+1) - f(x) = 2x - 1$ .

(1) 求函数  $f(x)$  的解析式;

(2) 若函数  $g(x) = f(x) - 2tx + 2$ , 当  $x \in [1, +\infty)$  时, 求函数  $g(x)$  的最小值.

20. (本小题满分 12 分)

某地有一片人造山林树木数量为  $a$ , 计划从某年开始合理砍伐, 每年砍伐量的百分比相等. 并计划砍伐到原有的一半时, 所用的时间是 20 年. 习近平总书记指出: “绿水青山就是金山银山”, 建设生态文明是关系人民福祉、关乎民族未来的大计, 是实现中国梦的重要内容. 为保护生态, 落实这一理念, 树林存量至少要保留原有的  $\frac{1}{4}$ . 已知到今年为止, 树林剩余木材量为原来的  $\frac{\sqrt{2}}{2}$ .

- (1) 求每年砍伐的百分比;
- (2) 到今年为止, 该树林已砍伐了多少年?
- (3) 为保护生态环境, 今后还能砍伐多少年?

21. (本题满分 12 分)

已知函数  $f(x) = \log_a(1+ax)$ , ( $a > 0$  且  $a \neq 1$ )

(1) 设  $g(x) = f(x) - \log_2(1-2x)$ , 当  $a = 2$  时, 求函数  $g(x)$  的定义域, 判断并证明函数  $g(x)$  的奇偶性;

(2) 是否存在实数  $a$ , 使得函数  $f(x)$  在  $[-4, -2]$  递减, 并且最小值为 1, 若存在, 求出  $a$  的值; 若不存在, 请说明理由.

22. (本题满分 12 分)

已知函数  $f(x) = \frac{2x^2 + a}{x}$ , 且  $f(1) = 3$

(1) 求函数  $f(x)$  在  $(-\infty, 0)$  上的单调区间, 并给出证明;

(2) 关于  $x$  的方程  $f(x) = x + b$  的两根为  $x_1, x_2$ , 试问是否存在实数  $m$ , 使得不等式  $m^2 + tm + 1 \geq |x_1 - x_2|$  对任意的  $b \in [2, \sqrt{13}]$  及  $t \in [0, 1]$  恒成立. 若存在, 求出  $m$  的取值范围; 若不存在, 说明理由.

2018—2019 学年度上学期高一模块考试  
数学试题答案

2018.11

一、选择题:

1--5 DCDAB 6--10 CCBA 11--12 BD

二、填空题:

13 -2 14.  $[1, +\infty)$  15.  $a \leq -2^{1+\sqrt{2}}$  16. ①③④

三、解答题: 本大题共 6 小题, 共 70 分, 解答应写出文字说明, 证明过程或演算步骤.

17 (本小题满分 10 分)

(1)解:  $\frac{m+m^{-1}-2}{m^{\frac{1}{2}}-m^{-\frac{1}{2}}} = \frac{\left(m^{\frac{1}{2}}-m^{-\frac{1}{2}}\right)^2}{m^{\frac{1}{2}}-m^{-\frac{1}{2}}} = m^{\frac{1}{2}}-m^{-\frac{1}{2}}$  .....5 分

(2)解: 原式 =  $\frac{1}{4} - \frac{3}{2} + 1 + (\lg 5)^2 + \lg 2 \cdot (\lg 5 + 1)$   
 $= -\frac{1}{4} + \lg 5(\lg 5 + \lg 2) + \lg 2$   
 $= -\frac{1}{4} + 1 = \frac{3}{4}$  ..... 10 分

18. (本小题满分 12 分)

解: (1)  $A = \{x | 2^x \leq 4\} = \{x | x \leq 2\}$

由  $f(x) = \frac{\sqrt{4-x}}{\sqrt{\lg x}}$  得  $\begin{cases} 4-x \geq 0 \\ \lg x > 0 \end{cases}, 1 < x \leq 4$

所以  $B = \{x | 1 < x \leq 4\}, \complement_U B = \{x | x \leq 1 \text{ 或 } x > 4\}$

$A \cap (\complement_U B) = \{x | x \leq 1\}$  .....6 分

(2)  $\because B \cap C = C, \therefore C \subseteq B$

当  $C = \emptyset$  时, 此时  $4-a \geq a$ , 即  $\{a | a \leq 2\}$  符合题意; .....8 分

当  $C \neq \emptyset$  时,  $a > 2$ ,

$$\because C \subseteq B, \therefore \begin{cases} 4-a \geq 1 \\ a \leq 4 \end{cases}; \text{解得: } 2 < a \leq 3$$

综上所述实数  $a$  的取值范围是  $a \leq 3$  .....12 分

19 (本小题满分 12 分)

解: (1) 由题意得,  $c = 0$ ,

$$\because f(x+1) - f(x) = 2x - 1 \therefore a(x+1)^2 + b(x+1) - ax^2 - bx = 2x - 1,$$

$$\therefore a=1, b=-2. \text{ 所以 } f(x) = x^2 - 2x. \quad \dots\dots\dots 5 \text{ 分}$$

$$(2) g(x) = x^2 - 2x - 2tx + 2 = x^2 - 2(t+1)x + 2, \quad x \in [1, +\infty),$$

对称轴方程为:  $x = t+1$ ,

$$\textcircled{1} \text{ 当 } t+1 \leq 1 \text{ 时, 即 } t \leq 0, \quad g(x)_{\min} = g(1) = 1 - 2t,$$

$$\textcircled{2} \text{ 当 } t+1 > 1 \text{ 时, 即 } t > 0, \quad g(x)_{\min} = g(t+1) = -t^2 - 2t + 1,$$

$$\text{综上, } g(x)_{\min} = \begin{cases} 1-2t, t \leq 0 \\ -t^2-2t+1, t > 0 \end{cases} \quad \dots\dots\dots 12 \text{ 分}$$

20 (本小题满分 12 分)

解: (1) 设每年降到百分比为  $x$  ( $0 < x < 1$ ),

$$\text{则 } a(1-x)^{20} = \frac{1}{2}a, \quad x = 1 - \left(\frac{1}{2}\right)^{\frac{1}{20}}. \quad \dots\dots\dots 4 \text{ 分}$$

(2) 设经过  $n$  年剩余为原来的  $\frac{\sqrt{2}}{2}$ ,

$$\text{则 } a(1-x)^n = \frac{\sqrt{2}}{2}a, \quad \text{即 } \left(\frac{1}{2}\right)^{\frac{n}{20}} = \left(\frac{1}{2}\right)^{\frac{1}{2}}, \quad \frac{n}{20} = \frac{1}{2}, \quad n = 10$$

到今年为止, 已砍伐了 10 年 .....8 分

(3) 设从今年开始, 以后砍伐了  $n$  年, 则  $n$  年后剩余为  $\frac{\sqrt{2}}{2}a(1-x)^n$ ,

令  $\frac{\sqrt{2}}{2}a(1-x)^n \geq \frac{1}{4}a$ , 即  $(1-x)^n \geq \frac{\sqrt{2}}{4}$ ,  $\left(\frac{1}{2}\right)^{\frac{n}{20}} \geq \left(\frac{1}{2}\right)^{\frac{3}{2}}$ ,  $n \leq 30$ .

故今后最多还能砍伐30年. ....12分

21. (本题满分12分)

(1) 当  $a = 2$  时,  $f(x) = \log_2(1+2x)$

所以  $g(x) = \log_2(1+2x) - \log_2(1-2x)$

由  $\begin{cases} 1+2x > 0 \\ 1-2x > 0 \end{cases}$  得,  $-\frac{1}{2} < x < \frac{1}{2}$ , 所以函数  $g(x)$  的定义域为  $(-\frac{1}{2}, \frac{1}{2})$ , .....3分

所以定义域关于原点对称

又因为  $g(-x) = \log_2(1-2x) - \log_2(1+2x) = -g(x)$

所以函数  $g(x)$  为奇函数.....5分

(3) 不存在

假设存在实数  $a$

令  $u = 1+ax$ ,  $\because a > 0$  且  $a \neq 1$ , 所以  $u = 1+ax$  在  $[-4, -2]$  上单调递增,

$\because$  函数  $f(x)$  在  $[-4, -2]$  递减, 由复合函数的单调性可知  $0 < a < 1$ , .....8分

$\because$  函数  $f(x)$  在  $[-4, -2]$  的最小值为 1,

$$\text{所以 } \begin{cases} 0 < a < 1 \\ 1-4a > 0 \\ f(-2) = \log_a(1-2a) = 1 \end{cases} \quad \text{所以 } \begin{cases} 0 < a < 1 \\ a < \frac{1}{4} \\ 1-2a = a \end{cases}, \quad \text{所以 } \begin{cases} 0 < a < 1 \\ a < \frac{1}{4} \\ a = \frac{1}{3} \end{cases} \quad \text{所以 } a \text{ 无解}$$

所以不存在实数  $a$  满足题意. ....12分

22 (本小题满分12分)

解: (1)  $\because f(1) = 3, \therefore a = 1, \therefore f(x) = \frac{2x^2+1}{x}$  任取  $x_1, x_2 \in (-\infty, 0)$ , 且  $x_1 < x_2 < 0$ , 则

$$f(x_2) - f(x_1) = 2x_2 + \frac{1}{x_2} - (2x_1 + \frac{1}{x_1}) = (x_2 - x_1) \left( 2 - \frac{1}{x_1 x_2} \right),$$

①当  $x_1 < x_2 \leq -\frac{\sqrt{2}}{2}$  时,  $x_1 x_2 > x_2^2 \geq \frac{1}{2} \therefore 2 - \frac{1}{x_1 x_2} > 0$ , 又  $x_2 - x_1 > 0$

$\therefore f(x_2) - f(x_1) > 0, \therefore f(x_2) > f(x_1)$

$\therefore f(x)$  在  $(-\infty, -\frac{\sqrt{2}}{2})$  上单调递增; .....3分

②  $-\frac{\sqrt{2}}{2} < x_1 < x_2 < 0$  时,  $0 < x_1 x_2 < x_1^2 < \frac{1}{2} \therefore 2 - \frac{1}{x_1 x_2} < 0$ , 又  $x_2 - x_1 > 0$

$\therefore f(x_2) - f(x_1) < 0 \therefore f(x_2) < f(x_1)$

$\therefore f(x)$  在  $(-\frac{\sqrt{2}}{2}, 0)$  上单调递减.

$\therefore f(x)$  在  $(-\infty, 0)$  的单调递增区间是  $(-\infty, -\frac{\sqrt{2}}{2})$ , 单调递减区间是  $(-\frac{\sqrt{2}}{2}, 0)$  .....6分

(2)  $\because f(x) = x + b, \therefore x^2 - bx + 1 = 0, |x_1 - x_2| = \sqrt{(x_1 + x_2)^2 - 4x_1 x_2} = \sqrt{b^2 - 4}$

又  $2 \leq b \leq \sqrt{13} \therefore 0 \leq |x_1 - x_2| \leq 3$ ,

故只须当  $t \in [0, 1]$ , 使  $m^2 + mt + 1 \geq 3$  恒成立, .....8分

记  $g(t) = mt + m^2 - 2$  只须:  $\begin{cases} g(0) \geq 0 \\ g(1) \geq 0 \end{cases} \therefore \begin{cases} m^2 - 2 \geq 0 \\ m^2 + m - 2 \geq 0 \end{cases}$

$\therefore m \leq -2$  或  $m \geq \sqrt{2}$

故存在实数  $m$  符合题意, 取值范围是  $(-\infty, -2] \cup [\sqrt{2}, +\infty)$  .....12分